

1063304457

1063304457

1063304457

1063304457

106-C

Page 16 of 16

उत्तर पत्रक में दो प्रतियाँ हैं – मूल प्रति और द्वितीय प्रति, परीक्षा समाप्ति पर परीक्षा कक्ष छोड़ने से पूर्व परीक्षार्थी उत्तर पत्रक के दोनों प्रतियाँ वीक्षक को सौंपेंगे, परीक्षार्थी स्वयं द्वितीय प्रति को अलग नहीं करें। वीक्षक द्वारा उत्तर पत्रक की मूल प्रति को अपने पास जमा कर, द्वितीय प्रति को मूल प्रति से कट लाईन से मोड़ कर सावधानीपूर्वक अलग कर परीक्षार्थी को सौंपेंगे। परीक्षार्थी द्वितीय प्रति को अपने साथ ले जायेंगे।

ग्राम विकास अधिकारी सीबी मर्ती परीक्षा -2021

प्रश्न पुस्तिका / QUESTION BOOKLET

दिनांक - 28/12/21

पुस्तिका में पृष्ठों की संख्या / Number of Pages in Booklet : 16

पुस्तिका में प्रश्नों की संख्या / Number of Questions in Booklet : 100

अवधि / Duration : 2.00 घंटे / Hours

पूर्णांक / Maximum Marks : 100

106-C

प्रश्न पुस्तिका क्रमांक
Question Booklet Number

1063304457

INSTRUCTIONS

- Please correctly fill your Roll Number in O.M.R. Sheet. Candidate will himself be responsible for filling wrong Roll No.
 - At the start of the examination, before attempting the question paper kindly check your test booklet and O.M.R. Answer Sheet and ensure that:
 - The serial numbers of test booklet and O.M.R answer sheet are same.
 - All pages of test booklet and O.M.R. answer sheet are properly printed. All questions from S. No. 1 to last S. No. 100 are printed and pages from S. No. 1 to last S. No. 16 are there in the question booklet.
- In case of any discrepancy/ defect the candidate should immediately report the matter to the invigilator for replacement of test booklet and O.M.R answer sheet. No claim / objection in this regard will be entertained after five minutes of start of examination. Candidate will be liable for it.
- Answer all questions.
 - All questions carry equal marks.
 - Only one answer is to be given for each question.
 - If more than one answers are marked, it would be treated as wrong answer.
 - There is no Negative marking.
 - Each question has four alternative responses marked serially as (A), (B), (C), (D). Candidate has to darken only one circle or bubble indicating the correct answer on the Answer Sheet using **BLUE BALL POINT PEN**.
 - Use of Mobile Phone/ Bluetooth Devices or any other electronic gadget in the examination hall is strictly prohibited. If any such prohibited material is found with any candidate, strict action will be taken by the Board against him/her as per rule.
 - If there is any sort of ambiguity/mistake either of printing or factual nature in Hindi and English version of the question, the English version will be treated as standard.

Warning : If a candidate is found copying or if any unauthorized material is found in his/her possession, F.I.R. would be lodged against him/her in the Police Station and he/she would be liable to be prosecuted under Section 3 of the **State Prevention of Unfair Means Act, 1992** and Board Regulations. Board may also debar him/her permanently from all future examinations of the Board.

निर्देश

- कृपया अपना रोल नम्बर ओ.एम.आर. पत्रक पर सावधानीपूर्वक सही भरें। गलत रोल नंबर भरने पर परीक्षार्थी स्वयं उत्तरदायी होगा।
 - प्रश्न-पत्र हल करने से पूर्व, परीक्षा प्रारम्भ होते ही प्रश्न-पत्र पुस्तिका एवं ओ.एम.आर. उत्तर-पत्रक की भली-भाँति जाँच कर यह सुनिश्चित कर लें कि:
 - प्रश्न-पत्र पुस्तिका एवं ओ.एम.आर. उत्तर-पत्रक के क्रमांक एक समान हैं।
 - प्रश्न-पत्र पुस्तिका एवं ओ.एम.आर. उत्तर-पत्रक के सभी पृष्ठ सही छपे हुए हैं। प्रश्न-पत्र पुस्तिका में प्रश्न सं. 1 से अन्तिम क्रमांक 100 तक सभी प्रश्न क्रमवार मुद्रित हैं एवं सभी पृष्ठ क्रमवार 1 से 16 तक मौजूद हैं।
- किसी भी प्रकार की विसंगति होने या दोषपूर्ण होने पर प्रश्न-पत्र पुस्तिका एवं ओ.एम.आर. उत्तर-पत्रक का दूसरा लिफाफा अभिजागर से प्राप्त कर लें। परीक्षा प्रारम्भ होने के 5 मिनट के पश्चात् ऐसी स्थिति में किसी दावे/आपत्ति पर कोई विचार नहीं किया जावेगा। उसमें समस्त जिम्मेदारी अभ्यर्थी की होगी।
- सभी प्रश्नों के उत्तर दीजिए।
 - सभी प्रश्नों के अंक समान हैं।
 - प्रत्येक प्रश्न का केवल एक ही उत्तर दीजिए।
 - एक से अधिक उत्तर देने की दशा में प्रश्न के उत्तर को गलत माना जावेगा।
 - ऋणात्मक अंक देय नहीं है।
 - प्रत्येक प्रश्न के चार वैकल्पिक उत्तर दिए गए हैं, जिन्हें क्रमशः (A), (B), (C), (D) अंकित किया गया है। अभ्यर्थी को सही उत्तर निर्दिष्ट करते हुए उनमें से केवल एक गोले अथवा बबल को उत्तर-पत्रक पर नीले बॉल प्वाँइंट पेन से गहरा करना है।
 - मोबाइल फोन/ ब्ल्यूटूथ डिवाइस अथवा इलेक्ट्रॉनिक यंत्र का परीक्षा हॉल में प्रयोग पूर्णतया वर्जित है। यदि किसी अभ्यर्थी के पास ऐसी कोई वर्जित सामग्री मिलती है, तो उसके विरुद्ध बोर्ड द्वारा नियमानुसार कठोर कार्यवाही की जावेगी।
 - यदि किसी प्रश्न के हिन्दी एवं अंग्रेजी रूपान्तरों में किसी प्रकार की कोई मुद्रण या तथ्यात्मक प्रकार की त्रुटि हो, तो प्रश्न का अंग्रेजी रूपान्तरण मान्य होगा।

चेतावनी : अगर कोई अभ्यर्थी नकल करते पकड़ा जाता है या उसके पास से कोई अनधिकृत सामग्री पाई जाती है, उस अभ्यर्थी के विरुद्ध पुलिस में प्राथमिकी दर्ज कराई जायेगी और राज्य अनुचित साधनों की रोकथाम अधिनियम, 1992 की धारा 3 एवं बोर्ड रेग्यूलेशन के तहत कार्यवाही की जावेगी। साथ ही बोर्ड ऐसे अभ्यर्थी को भविष्य में होने वाली बोर्ड की समस्त परीक्षाओं से विवर्जित कर सकता है।

इस परीक्षा पुस्तिका को तब तक न खोलें जब तक कहा न जाए / Do not open this test booklet until you are asked to do so.

106-C

Page 1 of 16

1. Jaisalmer was established in -
 (A) 10th century (B) 11th century
 (C) 12th century (D) 13th century

जैसलमेर की स्थापना हुई थी -
 (A) 10वीं शताब्दी में (B) 11वीं शताब्दी में
 (C) 12वीं शताब्दी में (D) 13वीं शताब्दी में

2. Which Sufi Saint received the title of 'Sultan-i-Tariqin'?
 (A) Khwaja Moinuddin Chishti
 (B) Sheikh Hamiduddin Nagori
 (C) Kaji Hamiduddin Nagori
 (D) Sheikh Burhan Chishti

किस सूफी संत को 'सुल्तान-ए-तारिकिन' की उपाधि प्राप्त थी?

- (A) ख्वाजा मोइनुद्दीन चिश्ती
 (B) शेख हमिदुद्दीन नागोरी
 (C) काजी हमिदुद्दीन नागोरी
 (D) शेख बुरहान चिश्ती

3. Which tree/plant is used more for 'beverages' in Bhil tribe?
 (A) Mango (B) Grapes
 (C) Mahua (D) Khejadi

भील जनजाति में 'पेय पदार्थ' हेतु किस वृक्ष/पौधा का अधिक उपयोग किया जाता है?

- (A) आम (B) अंगूर
 (C) महुआ (D) खेजड़ी

4. Who is the present Chairperson of Insurance Regulatory and Development Authority of India?
 (A) Shiva Subramanian Raman
 (B) Ajay Tyagi
 (C) Nand Kishor Singh
 (D) Subhash Chandra Khuntia

भारतीय बीमा विनियामक और विकास प्राधिकरण के वर्तमान अध्यक्ष कौन हैं?

- (A) शिव सुब्रमणियन रमन
 (B) अजय त्यागी
 (C) नंद किशोर सिंह
 (D) सुभाष चंद्र खुंटिया

5. Who among the following is credited to be first to bring camels to Marwar?
 (A) Gogaji (B) Tejaji
 (C) Devnarayan ji (D) Pabuji

निम्न में से किसे मारवाड़ में सर्वप्रथम ऊँट लाने का श्रेय दिया जाता है?

- (A) गोगाजी (B) तेजाजी
 (C) देवनारायण जी (D) पाबूजी

6. Which of the following types of forests occupy the largest percentage in India?
 (A) Coniferous
 (B) Tropical dry deciduous
 (C) Tropical evergreen
 (D) Sub-tropical pine,

निम्नलिखित में से किस प्रकार के वन भारत में सर्वाधिक प्रतिशत क्षेत्र में विस्तृत हैं?

- (A) शंकुधारी
 (B) ऊष्ण कटिबंधीय शुष्क पतझड़
 (C) ऊष्ण कटिबंधीय सदाबहार
 (D) उपोष्ण कटिबंधीय पाइन (चीड़)

7. Rajasthan Solar Park Development Company Limited (RSPDCL) is developing which one of the following solar projects?
 (A) Bhadla - Phase II (B) Bhadla - Phase III
 (C) Bhadla - Phase IV (D) Bhadla - Phase V

राजस्थान सौर पार्क विकास कंपनी लिमिटेड निम्नलिखित में से कौनसा सौर पार्क परियोजना विकसित कर रहा है?

- (A) भड़ला - फेज II (B) भड़ला - फेज III
 (C) भड़ला - फेज IV (D) भड़ला - फेज V

8. The committee constituted for merger of Matsya Union in Greater Rajasthan was -
 (A) Hiralal Shastri Committee
 (B) P. Satyanarayan Rao Committee
 (C) Dr. Mohan Singh Mehta Committee
 (D) Dr. Shankar Rao Dev Committee

मत्स्य संघ को बृहत् राजस्थान का हिस्सा बनाने के लिए गठित की गई समिति थी -

- (A) हीरालाल शास्त्री समिति
 (B) पी. सत्यनारायण राव समिति
 (C) डॉ. मोहन सिंह मेहता समिति
 (D) डॉ. शंकरराव देव समिति

9. The watershed of which district of Rajasthan is included in the 'Neeranchal Project'?
 (A) Jodhpur (B) Jhalawar
 (C) Jaipur (D) Udaipur

राजस्थान के किस जिले का वॉटरशेड/जलग्रहण क्षेत्र 'नीरांचल परियोजना' के अंतर्गत आता है?

- (A) जोधपुर (B) झालावाड़
 (C) जयपुर (D) उदयपुर

10. Which of the following Glacier is located in the Nubra valley?
 (A) Batura (B) Hispar
 (C) Baltoro (D) Siachen

निम्नलिखित में से कौनसा हिमनद नुब्रा घाटी में अवस्थित है?

- (A) बटुरा (B) हिस्पार
 (C) बाल्टोरो (D) सियाचिन

11. First scientific classification of Rajasthan painting was presented by -
 (A) Dr. Faiyaz Ali (B) W. G. Archer
 (C) Anand Kumar (D) Erik Dickinson Swami

राजस्थानी चित्रकला का सबसे पहला वैज्ञानिक वर्गीकरण किसने प्रस्तुत किया?

- (A) डॉ. फैयाज़ अली (B) डब्ल्यू. जी. आर्चर
 (C) आनंद कुमार स्वामी (D) एरिक डिकिंसन

12. Who has been awarded "Water Steward of the Year", 2021 award for water conservation?
 (A) Vivek Bansal (B) Ashok Gupta
 (C) Vinod Bhardwaj (D) Ajitabh Sharma

जल संरक्षण के लिए वर्ष 2021 का "वॉटर स्टुअर्ड ऑफ द ईयर" पुरस्कार किसे दिया गया है?

- (A) विवेक बंसल (B) अशोक गुप्ता
 (C) विनोद भारद्वाज (D) अजिताभ शर्मा

13. In 2020-21, the sectoral contribution of the industries sector in the total Gross State Value Added (GSVA) of Rajasthan, at current prices is -
 (A) 18.6% (B) 21.7%
 (C) 24.8% (D) 26.4%

2020-21 में, राजस्थान के कुल सकल राज्य मूल्य वर्धन (GSVA) में प्रचलित कीमतों पर उद्योग क्षेत्र का कुल योगदान है -

- (A) 18.6% (B) 21.7%
 (C) 24.8% (D) 26.4%

14. Mani Kaul's film 'Duvidha' is based on the work of -
 (A) Kanhaiya Lal Sethia (B) Yadendra Sharma
 (C) Vijaydan Detha (D) Nathmal Joshi

मणि कौल की फिल्म 'दुविधा' किसकी कृति पर आधारित है?

- (A) कन्हैया लाल सेठिया (B) यादवेन्द्र शर्मा
 (C) विजयदान देथा (D) नथमल जोशी

15. Who presided the 7th All India States' Peoples' conference held at Udaipur?
 (A) K. M. Munshi (B) J. B. Kriplani
 (C) Jawahar Lal Nehru (D) Mahatma Gandhi

उदयपुर में आयोजित अखिल भारतीय देशी राज्य लोक परिषद के सातवें अधिवेशन की अध्यक्षता की थी -

- (A) के. एम. मुन्शी ने (B) जे. बी. कृपलानी ने
 (C) जवाहरलाल नेहरू ने (D) महात्मा गांधी ने

16. Rajasthan Eco-Tourism Policy was released in -
 (A) August 2020 (B) December 2020
 (C) April 2021 (D) July 2021

राजस्थान इको-टूरिज्म नीति जारी की गई -
 (A) अगस्त 2020 में (B) दिसम्बर 2020 में
 (C) अप्रैल 2021 में (D) जुलाई 2021 में

17. Bhatner fort was built by -
 (A) Surat Singh (B) Bhupat
 (C) Bar Singh (D) Jaisingh II

भटनेर किला किसने बनवाया था?

- (A) सुरत सिंह (B) भूपत
 (C) बर सिंह (D) जयसिंह II

18. Phuldol fair of Shahpura is held in the month of -
 (A) Chaitra (B) Vaisakha
 (C) Kartik (D) Pausha

शाहपुरा का फूलडोल मेला किस महीने में आयोजित किया जाता है?

- (A) चैत्र (B) वैशाख
 (C) कार्तिक (D) पौष

19. 'Sagat Raso' is written by -
 (A) Narpati Nalha (B) Girdhar Asiya
 (C) Dalpat Vijay (D) Jodhraj

'सगत रासो' के लेखक हैं -

- (A) नरपति नाल्ह (B) गिरेधर आसिया
 (C) दलपत विजय (D) जोधराज

20. In 2021, the Thomas Cup Trophy was lifted by -
 (A) China (B) Indonesia
 (C) Japan (D) South Korea

2021 में, थॉमस कप ट्रॉफी के विजेता हैं -

- (A) चीन (B) इंडोनेशिया
 (C) जापान (D) दक्षिण कोरिया

21. Which of the following is called the 'Khajuraho of Rajasthan'?
 (A) Sas-Bahu temple, Nagada
 (B) Temple of Kiradu, Barmer
 (C) Mahanaleshwar temple, Menal
 (D) Eklingji temple, Udaipur

निम्न में किसे 'राजस्थान का खजुराहो' कहा जाता है?

- (A) सास-बहु मंदिर, नागदा
 (B) किराडू का मंदिर, बाड़मेर
 (C) महानलेश्वर मंदिर, मेनाल
 (D) एकलिंगजी मंदिर, उदयपुर

22. Which steel plant was set up before Independence of India?
 (A) Bhilai (B) Bokaro
 (C) Rourkela (D) Jamshedpur

कौनसा स्टील कारखाना भारत की स्वतंत्रता से पहले स्थापित किया गया?

- (A) भिलाई (B) बोकारो
 (C) राउरकेला (D) जमशेदपुर

23. In Rajasthan, inserting a gold nail in the middle of teeth by a woman is called -

- (A) Bhogali (B) Toti
 (C) Choomp (D) Peepal patra

राजस्थान में, किसी महिला द्वारा दांतों के बीच में सोने की कील जड़वाने को कहा जाता है -

- (A) भोगली (B) टोटी
 (C) चूप (D) पीपल पत्रा

24. 'Mount Popa' volcano is located in -

- (A) Italy (B) Japan
 (C) Myanmar (D) Indonesia

'माउंट पोपा' ज्वालामुखी स्थित है -

- (A) इटली में (B) जापान में
 (C) म्यान्मार में (D) इण्डोनेशिया में

25. Gavri is a folk drama, based on the story of -

- (A) Heer-Ranjha
 (B) Shiv-Bhasmasur
 (C) Krishna-Kans
 (D) Pratap-Akbar

गवरी एक लोकनाट्य है, जो आधारित है -

- (A) हीर-रांझा की कथा पर
 (B) शिव-भस्मासुर की कथा पर
 (C) कृष्ण-कंस की कथा पर
 (D) प्रताप-अकबर की कथा पर

26. Which of the following tribes lives in the Bay of Bengal Islands of India?

- (A) Khasa (B) Jarawa
 (C) Kuki (D) Juang

निम्न में से कौनसी जनजाति भारत के बंगाल की खाड़ी के द्वीपों में रहती है?

- (A) खासा (B) जारावा / जारवा
 (C) कुकी (D) जुआंग

27. The world's greatest earthquake belt is -
 (A) Circum Atlantic Belt
 (B) Circum Pacific Belt
 (C) Mid continental Belt
 (D) Mid oceanic Belt

विश्व में सर्वाधिक भूकंपों की पटी है -

- (A) परि अटलांटिक मेखला
 (B) परि प्रशांत मेखला
 (C) मध्य महाद्वीपीय मेखला
 (D) मध्य महासागरीय मेखला

28. Rajasthan contributes about percent of total crude oil production in India.

- (A) 18 to 19 (B) 15 to 16
 (C) 22 to 23 (D) 27 to 28

भारत में कुल कच्चे तेल (क्रूड ऑयल) के उत्पादन में राजस्थान का योगदान लगभग प्रतिशत है।

- (A) 18 से 19 (B) 15 से 16
 (C) 22 से 23 (D) 27 से 28

29. Match the following -

Sect

- (a) Charandasi sect
 (b) Alkhiya Sect
 (c) Gudhar Sect
 (d) Nawal Sect

Main centre/ Headquarters

- (i) Jodhpur
 (ii) Bikaner
 (iii) Delhi
 (iv) Dantara (Bhilwara)

Code -

- (A) a-(i), b-(ii), c-(iii), d-(iv)
 (B) a-(iii), b-(ii), c-(iv), d-(i)
 (C) a-(i), b-(iii), c-(iv), d-(ii)
 (D) a-(iv), b-(i), c-(ii), d-(iii)

सुमेलित कीजिए -

सम्प्रदाय

- (a) चरणदासी
 (b) अलखिया
 (c) गूदड़
 (d) नवल

प्रमुख पीठ (गद्दी)

- (i) जोधपुर
 (ii) बीकानेर
 (iii) दिल्ली
 (iv) दाँतड़ा (भीलवाड़ा)

कूट -

- (A) a-(i), b-(ii), c-(iii), d-(iv)
 (B) a-(iii), b-(ii), c-(iv), d-(i)
 (C) a-(i), b-(iii), c-(iv), d-(ii)
 (D) a-(iv), b-(i), c-(ii), d-(iii)

30. Salim Sagar and Suraj Kund water ponds are located at -
 (A) Bala Quila Fort, Alwar
 (B) Shergarh Fort, Baran
 (C) Jaigarh Fort, Jaipur
 (D) Junagarh Fort, Bikaner

सलीम सागर एवं सूरज कुण्ड जल तड़ाग अवस्थित हैं -

- (A) बाला किला, अलवर में
 (B) शेरगढ़ किला, बारां में
 (C) जयगढ़ दुर्ग, जयपुर में
 (D) जूनागढ़ दुर्ग, बीकानेर में

31. What is called the 'Mausar' in the customs of Rajasthan?

- (A) Dowry
 (B) Death-Supper
 (C) Home entrance
 (D) Dinner on the occasion of marriage

राजस्थान के रीति-रिवाजों में 'मौसर' किसे कहा जाता है?

- (A) दहेज
 (B) मृत्यु-भोज
 (C) गृह-प्रवेश
 (D) विवाह के अवसर पर प्रीति भोज

32. 'Saheliyon ki Bari' was built by -

- (A) Sangram Singh II (B) Udai Singh II
 (C) Jagat Singh I (D) Pratap Singh II

'सहेलियों की बाड़ी' के निर्माणकर्ता थे -

- (A) संग्राम सिंह II (B) उदय सिंह II
 (C) जगत सिंह I (D) प्रताप सिंह II

33. Wandur National Park (Mahatma Gandhi Marine National Park) is located in -

- (A) Andaman and Nicobar Islands
 (B) Lakshadweep
 (C) Tamil Nadu
 (D) Puducherry

वंदूर राष्ट्रीय उद्यान (महात्मा गाँधी समुद्री राष्ट्रीय उद्यान) अवस्थित है -

- (A) अण्डमान और निकोबार द्वीप समूह में
 (B) लक्षद्वीप में
 (C) तमिलनाडु में
 (D) पुडुचेरी में

34. Which one of the following (Research Institute-Location) is not correctly matched?
 (A) National Research Centre on Rapeseed and Mustard - Sewar
 (B) Central Arid Zone Research Institute - Jodhpur
 (C) National Research Centre for Arid Horticulture - Beechhwal
 (D) National Research Centre on Seed Spices - Tijara

निम्नलिखित में से कौनसा (अनुसंधान संस्थान - अवस्थिति) सुमेलित नहीं है?

- (A) राष्ट्रीय सरसों अनुसंधान केन्द्र - सेवर
 (B) केन्द्रीय शुष्क क्षेत्र अनुसंधान संस्थान - जोधपुर
 (C) राष्ट्रीय शुष्क क्षेत्र उद्यानिकी अनुसंधान केन्द्र - बीछवाल
 (D) राष्ट्रीय बीज मसाला अनुसंधान केन्द्र - तिजारा

35. Mangrove forest are found in the deltaic part of which of the following rivers?

- (i) Ganges
 (ii) Godavari
 (iii) Krishna
 (A) Only (i) (B) (i) and (ii)
 (C) (i) and (iii) (D) (i), (ii) and (iii)

निम्नलिखित में से किन नदियों के डेल्टाई भागों में मैंग्रोव वन पाए जाते हैं?

- (i) गंगा
 (ii) गोदावरी
 (iii) कृष्णा
 (A) केवल (i) (B) (i) तथा (ii)
 (C) (i) तथा (iii) (D) (i), (ii) तथा (iii)

36. How many cantonments of British soldiers were there in Rajasthan at the time of the beginning of the revolt of 1857?

- (A) 3 (B) 4
 (C) 5 (D) 6

1857 की क्रांति प्रारंभ होने के समय राजस्थान में अंग्रेजी सैनिकों की कितनी छावनियाँ थीं?

- (A) 3 (B) 4
 (C) 5 (D) 6

37. The founder of 'Jain Vardhman Vidyalaya' established in 1907 AD was -
 (A) Hiralal Shastri (B) Radha Krishna Bohra
 (C) Arjun Lal Sethi (D) Manikya Lal Verma

1907 ई. में स्थापित 'जैन वर्धमान विद्यालय' के संस्थापक थे -

- (A) हीरालाल शास्त्री (B) राधाकृष्ण बोहरा
 (C) अर्जुन लाल सेठी (D) माणिक्यलाल वर्मा

38. 'Veer Bharat Sabha' was established by -
 (A) Arjunlal Sethi (B) Vijay Singh Pathik
 (C) Kesari Singh (D) Sagarmal Gopa Barhath

'वीर भारत सभा' की स्थापना की थी -

- (A) अर्जुन लाल सेठी (B) विजय सिंह पथिक
 (C) केसरी सिंह बारहठ (D) सागरमल गोपा

39. Arrange the following mountain peaks of Rajasthan in the increasing order of height - Gurushikhar, Achalgarh, Kumbhalgarh, Taragarh

- (A) Taragarh, Achalgarh, Kumbhalgarh, Guru Shikhar
 (B) Kumbhalgarh, Achalgarh, Taragarh, Guru Shikhar
 (C) Taragarh, Kumbhalgarh, Achalgarh, Guru Shikhar
 (D) Kumbhalgarh, Taragarh, Achalgarh, Guru Shikhar

राजस्थान की निम्न पर्वत चोटियों को ऊँचाई के बढ़ते क्रम में व्यवस्थित कीजिए -

- गुरुशिखर, अचलगढ़, कुम्भलगढ़, तारागढ़
 (A) तारागढ़, अचलगढ़, कुम्भलगढ़, गुरुशिखर
 (B) कुम्भलगढ़, अचलगढ़, तारागढ़, गुरुशिखर
 (C) तारागढ़, कुम्भलगढ़, अचलगढ़, गुरुशिखर
 (D) कुम्भलगढ़, तारागढ़, अचलगढ़, गुरुशिखर

40. What rank did Udaipur from Rajasthan get in the ranking of 100 cities under Smart City Mission?

- (A) 22nd (B) 10th
 (C) 5th (D) 28th

स्मार्ट सिटी मिशन के अंतर्गत शहरों की रैंकिंग में राजस्थान से उदयपुर को कौन सी रैंक मिली?

- (A) 22^{वीं} (B) 10^{वीं}
 (C) 5^{वीं} (D) 28^{वीं}

41. Vinit said, "This girl is the wife of the grandson of my mother." Who is Vinit to the girl?
 (A) Father (B) Grand father
 (C) Brother-in-law (D) Father-in-law

विनित ने कहा, "यह लड़की मेरी माताजी के पोते की पत्नी है।" विनित का उस लड़की से क्या रिश्ता है?

- (A) पिता (B) दादा
 (C) देवर (D) ससुर

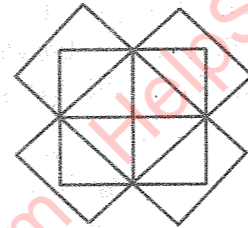
42. If (-) means (÷), (+) means (×), (÷) means (-) and (×) means (+), then which of the following equation is correct?

- (A) $43 \times 7 \div 5 + 4 - 8 = 25$
 (B) $36 - 12 \times 6 \div 3 + 4 = 60$
 (C) $52 \div 4 + 5 \times 8 - 2 = 36$
 (D) $30 \times 4 - 12 + 5 \div 3 = 420$

यदि (-) का मतलब (÷), (+) का मतलब (×), (÷) का मतलब (-) और (×) का मतलब (+) है, तो निम्न में से कौनसा समीकरण सही है?

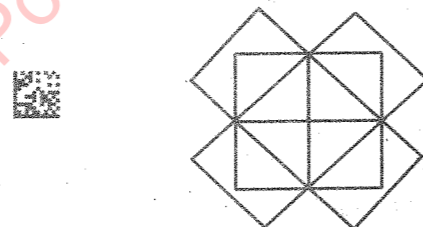
- (A) $43 \times 7 \div 5 + 4 - 8 = 25$
 (B) $36 - 12 \times 6 \div 3 + 4 = 60$
 (C) $52 \div 4 + 5 \times 8 - 2 = 36$
 (D) $30 \times 4 - 12 + 5 \div 3 = 420$

43. In the following figure, the difference between rectangles (except squares) and triangles is -



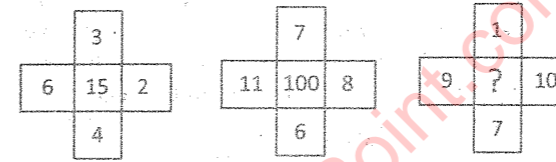
- (A) 0 (B) 1
 (C) 2 (D) 4

निम्न चित्र में आयतों (वर्गों के अतिरिक्त) एवं त्रिभुजों के मध्य अंतर है -



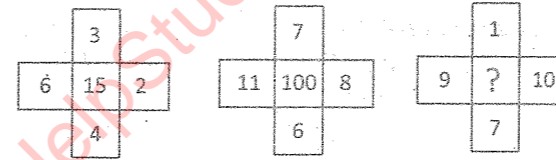
- (A) 0 (B) 1
 (C) 2 (D) 4

44. Find the missing number -



- (A) 27 (B) 131
 (C) 231 (D) 345

लुप्त संख्या ज्ञात कीजिए -



- (A) 27 (B) 131
 (C) 231 (D) 345

45. If it was Sunday on 18th December 1982, what was the day on 23rd December 1984?

- (A) Monday (B) Tuesday
 (C) Wednesday (D) Friday

यदि 18 दिसम्बर 1982 को रविवार था, 23 दिसम्बर 1984 को क्या वार था?

- (A) सोमवार (B) मंगलवार
 (C) बुधवार (D) शुक्रवार

46. A cube is coloured red on one face, green on the opposite face, yellow on another face and blue on a face adjacent to the yellow face. The other two faces are left uncoloured. It is then cut into 125 smaller cubes of equal size. How many cubes are uncoloured on all the faces?

- (A) 64 (B) 48
 (C) 36 (D) 27

एक घन की एक सतह को लाल रंग से, इससे विपरीत सतह को हरे रंग से, अन्य एक सतह को पीले रंग तथा पीले रंग के आसन्न सतह को नीले रंग से रंगा जाता है। तथा अन्य दो सतहों को बेरंग छोड़ देते हैं। इसको 125 एक से समान आकार में छोटे घनों में बाँटा जाता है।

कितने घनों की सभी सतहें बेरंग हैं?

- (A) 64 (B) 48
 (C) 36 (D) 27

47. In a certain code language, 'GREEN' is coded as 79555 and 'YELLOW' is coded as 753365, then the code for 'WHITE' is -
 (A) 58935
 (B) 58925
 (C) 688935
 (D) 689205

किसी कूट भाषा में, 'GREEN' का कूट 79555 तथा 'YELLOW' का कूट 753365 है, तो 'WHITE' का कूट है -

- (A) 58935
 (B) 58925
 (C) 688935
 (D) 689205

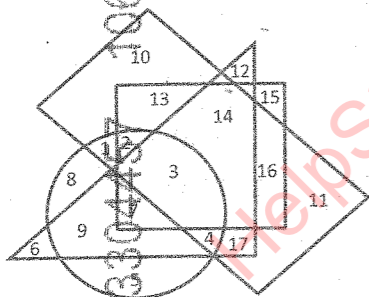
48. In a queue of students, Rajesh is fifth from the left and Manish is sixth from the right. When they interchange their places among themselves, Rajesh becomes thirteenth from the left. Then, position of Manish from the right is -

- (A) 5th
 (B) 14th
 (C) 15th
 (D) 16th

एक विद्यार्थियों की पंक्ति में, राजेश बायीं ओर से पाँचवा तथा मनीष दायीं ओर से छठा है। जब ये आपस में अपना स्थान बदलते हैं, तो राजेश बायीं ओर से तेहरवा हो जाता है। तो मनीष की दायीं ओर से स्थिति है -

- (A) 5^{वीं}
 (B) 14^{वीं}
 (C) 15^{वीं}
 (D) 16^{वीं}

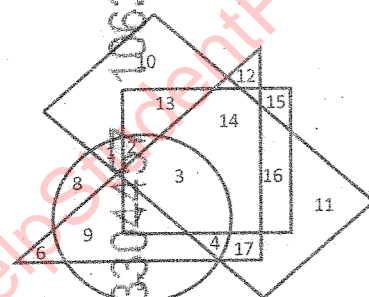
49. Study the following figure carefully and answer the question. Rectangle represents Mathematicians. Circle represent Geologists. Triangle represents Scientists. Square represents Engineers.



The Scientist who are Geologists also, but not Engineer or Mathematician -

- (A) 7
(B) 17
(C) 14
(D) 9

निम्नलिखित चित्र को ध्यानपूर्वक पढ़कर प्रश्न के उत्तर दें। आयत गणितज्ञों को दर्शाता है। वृत्त भूविज्ञानियों को दर्शाता है। त्रिभुज वैज्ञानिकों को दर्शाता है। वर्ग इंजीनियरों को दर्शाता है।



वैज्ञानिक जो भूविज्ञान भी हैं, परंतु इंजीनियर अथवा गणितज्ञ नहीं हैं -

- (A) 7
(B) 17
(C) 14
(D) 9

50. Here, a statement is followed by three assumptions numbered I, II and III. You have to consider the statement and the following assumptions, decide which of the assumption/assumptions is/are implicit in the statement and choose your answer accordingly.

Statement : The book on Vedic maths is so prepared that even a layman can study it, in the absence of a teacher.

- Assumption :** I A layman wishes to study Vedic maths without a teacher.
II A teacher may not always be available to teach Vedic maths.
III A layman generally finds it difficult to learn Vedic maths on its own.

- (A) Only I and II assumptions are implicit in the statement.
(B) Only II and III assumptions are implicit in the statement.
(C) Only I and III assumptions are implicit in the statement.
(D) All assumptions are implicit in the statement.

यहाँ, एक कथन के पश्चात् तीन पूर्वधारणाएँ I, II तथा III दी गई हैं। आपको कथन तथा पश्चावर्ती पूर्वधारणाओं को ध्यान में रखते हुए निर्णय करना है कि कौनसी पूर्वधारणा/पूर्वधारणाएँ कथन में समाहित हैं तथा उसी के अनुरूप अपना उत्तर चुनिए।

कथन : वैदिक गणित की पुस्तक इस प्रकार बनाई गई है कि यहाँ तक की एक साधारण व्यक्ति भी अध्यापक की अनुपस्थिति में इसका अध्ययन कर सकता है।

- पूर्वधारणाएँ :** I एक साधारण व्यक्ति की इच्छा है कि अध्यापक के बिना भी वह वैदिक गणित का अध्ययन कर सके।
II वैदिक गणित के अध्यापन के लिए सदैव एक अध्यापक उपलब्ध नहीं हो सकता।
III एक साधारण व्यक्ति साधारणतः यह पाता है कि स्वमेव वैदिक गणित को सीखना कठिन है।

- (A) केवल पूर्वधारणाएँ I एवं II ही कथन में समाहित हैं।
(B) केवल पूर्वधारणाएँ II एवं III ही कथन में समाहित हैं।
(C) केवल पूर्वधारणाएँ I एवं III ही कथन में समाहित हैं।
(D) सभी पूर्वधारणाएँ कथन में समाहित हैं।

51. Two parallel chords of a circle are length of 6 cm and 8 cm. If the distance between them is 1 cm, then the radius of circle is -
(A) 8 cm (B) 7 cm
(C) 6 cm (D) 5 cm

एक वृत्त की दो समांतर जीवाएँ 6 से.मी. और 8 से.मी. लंबाई की हैं। यदि उनके मध्य दूरी 1 से.मी. है, तो वृत्त की त्रिज्या है -

- (A) 8 से.मी. (B) 7 से.मी.
(C) 6 से.मी. (D) 5 से.मी.

52. A fast train takes 3 hours less than a slow train for a journey of 900 km. If the speed of the slow train is 10 km/hr less than that of the fast train, then what is the speed of the fast train?
(A) 30 km/hr (B) 40 km/hr
(C) 50 km/hr (D) 60 km/hr

900 कि.मी. की यात्रा तय करने में एक तेज गति की रेलगाड़ी, धीमी गति की रेलगाड़ी की तुलना में 3 घंटे का समय कम लेती है। यदि धीमी गति की रेलगाड़ी की चाल, तेज गति की रेलगाड़ी की चाल की तुलना में 10 कि.मी./घंटा कम है, तो तेज गति की रेलगाड़ी की चाल क्या है?

- (A) 30 कि.मी./घंटा (B) 40 कि.मी./घंटा
(C) 50 कि.मी./घंटा (D) 60 कि.मी./घंटा

53. If three numbers are in the ratio 4 : 5 : 6 and their L.C.M. is 3600, then H.C.F. of these numbers is -
(A) 50 (B) 40
(C) 60 (D) 200

यदि तीन संख्याओं का अनुपात 4 : 5 : 6 है तथा इनका लघुत्तम समापवर्त्य 3600 है, तो इन संख्याओं का महत्तम समापवर्त्य है -

- (A) 50 (B) 40
(C) 60 (D) 200

54. Area bounded by the curve $y = 2x - x^2$ and the line $x + y = 0$ is -
(A) $\frac{9}{2}$ (B) $\frac{43}{6}$
(C) $\frac{35}{6}$ (D) $\frac{41}{6}$

वक्र $y = 2x - x^2$ एवं सरल रेखा $x + y = 0$ से घिरे क्षेत्र का क्षेत्रफल है -

- (A) $\frac{9}{2}$ (B) $\frac{43}{6}$
(C) $\frac{35}{6}$ (D) $\frac{41}{6}$

55. If $y = x - x^2 + x^3 - x^4 + \dots \infty$, then $x =$
(A) $\frac{y}{1+y}$ (B) $\frac{1+y}{y}$
(C) $\frac{1-y}{y}$ (D) $\frac{y}{1-y}$

यदि $y = x - x^2 + x^3 - x^4 + \dots \infty$, तो $x =$

- (A) $\frac{y}{1+y}$ (B) $\frac{1+y}{y}$
(C) $\frac{1-y}{y}$ (D) $\frac{y}{1-y}$

56. The annual simple interest on some money is $\frac{25}{16}$ of the principle. If the numbers representing the rate of interest and the number of years are equal, then the rate of interest is -
(A) 8% annual (B) $11\frac{1}{2}$ % annual
(C) $12\frac{1}{4}$ % annual (D) $12\frac{1}{2}$ % annual

किसी धनराशि पर किसी वार्षिक ब्याज की दर से साधारण ब्याज, मूलधन का $\frac{25}{16}$ है। यदि दर प्रतिशत तथा वर्षों में समय को प्रदर्शित करने वाली संख्याएँ बराबर हों, तो ब्याज की दर है -

- (A) 8% वार्षिक (B) $11\frac{1}{2}$ % वार्षिक
(C) $12\frac{1}{4}$ % वार्षिक (D) $12\frac{1}{2}$ % वार्षिक

57. If $x \in R$, then the minimum value of $(x^2 - 6x + 13)$ is equal to -
(A) 13 (B) 7
(C) 6 (D) 4

यदि $x \in R$, तो $(x^2 - 6x + 13)$ का न्यूनतम मान बराबर है -

- (A) 13 (B) 7
(C) 6 (D) 4

58. If the length of a rectangle is increased by 20% and the breadth is decreased by 20%, then the percentage increase or decrease in the area of the rectangle is -
(A) 4% increase
(B) 4% decrease
(C) Neither increase nor decrease
(D) Cannot be determined

एक आयत की लंबाई में 20% वृद्धि करने और चौड़ाई में 20% कमी करने पर आयत के क्षेत्रफल में होने वाली वृद्धि या कमी का प्रतिशत है -

- (A) 4% वृद्धि
(B) 4% कमी
(C) न वृद्धि और ना ही कमी
(D) ज्ञात नहीं कर सकते

59. If $\tanh(x + iy) = p + iq$, then $\frac{p}{q} =$

- (A) $\frac{\sinh 2y}{\sin 2x}$ (B) $\frac{\sinh 2x}{\sin 2y}$
 (C) $\frac{\sin 2y}{\sinh 2x}$ (D) $\frac{\sin 2x}{\sinh 2y}$

यदि $\tanh(x + iy) = p + iq$, तो $\frac{p}{q} =$

- (A) $\frac{\sinh 2y}{\sin 2x}$ (B) $\frac{\sinh 2x}{\sin 2y}$
 (C) $\frac{\sin 2y}{\sinh 2x}$ (D) $\frac{\sin 2x}{\sinh 2y}$

60. The cost of 6 pens and 3 pencils is ₹ 84. If one-third of the cost of one pen is equal to the cost of one pencil, then what is the total cost of 4 pens and 5 pencils?

- (A) 66
 (B) 68
 (C) 72
 (D) 78

6 पेन तथा 3 पेंसिलों का मूल्य 84 ₹ है। यदि एक पेन के मूल्य का एक-तिहाई, एक पेंसिल के मूल्य के बराबर है, तो 4 पेन तथा 5 पेंसिलों का कुल मूल्य क्या है?

- (A) 66
 (B) 68
 (C) 72
 (D) 78

61. To whom the Sarpanch gives his/her resignation letter?

- (A) Deputy Sarpanch
 (B) Pradhan
 (C) C.E.O. of Zila Parishad
 (D) Development officer of Panchayat Samiti

सरपंच अपना त्यागपत्र किसको सौंपता है?

- (A) उपसरपंच
 (B) प्रधान
 (C) जिला परिषद के सी.ई.ओ. को
 (D) पंचायत समिति के विकास अधिकारी को

62. In which place of Rajasthan, there isn't Patwari Training school?

- (A) Tonk
 (B) Kota
 (C) Alwar
 (D) Chittorgarh

राजस्थान में कौनसी जगह, पटवारी ट्रेनिंग स्कूल नहीं है?

- (A) टोंक
 (B) कोटा
 (C) अलवर
 (D) चित्तौड़गढ़

63. Match List - I with List - II and identify the correct answer from the code given below -

List - I

- (a) Maharana Pratap Armed Battalion
 (b) Sardar Patel Police University
 (c) First All Women Staff Police Station
 (d) Mewar Bheel Core

List - II

- (i) Udaipur
 (ii) Jaipur
 (iii) Jodhpur
 (iv) Pratapgarh

Code -

- (A) a-(iii), b-(ii), c-(iv), d-(i)
 (B) a-(i), b-(iii), c-(iv), d-(ii)
 (C) a-(iv), b-(iii), c-(ii), d-(i)
 (D) a-(ii), b-(iii), c-(iv), d-(i)

सूची - I का सूची - II से मिलान कीजिए और नीचे दिए गए कूट में से सही उत्तर का चयन कीजिए -

सूची - I

- (a) महाराणा प्रताप आर्म्ड बटालियन
 (b) सरदार पटेल पुलिस विश्वविद्यालय
 (c) पहला महिला कर्मचारी पुलिस थाना
 (d) मेवाड़ भील कोर

सूची - II

- (i) उदयपुर
 (ii) जयपुर
 (iii) जोधपुर
 (iv) प्रतापगढ़

कूट -

- (A) a-(iii), b-(ii), c-(iv), d-(i)
 (B) a-(i), b-(iii), c-(iv), d-(ii)
 (C) a-(iv), b-(iii), c-(ii), d-(i)
 (D) a-(ii), b-(iii), c-(iv), d-(i)

64. When was the State Secretariat established in Rajasthan?

- (A) April 1949 (B) April 1950
 (C) November 1949 (D) November 1950

राजस्थान में शासन सचिवालय की स्थापना कब हुई?

- (A) अप्रैल 1949 (B) अप्रैल 1950
 (C) नवम्बर 1949 (D) नवम्बर 1950

65. What was the tenure of last President Rule in Rajasthan?

- (A) 15th Dec., 1992 - 03rd Dec., 1993
 (B) 1st Dec., 1998 - 04th Jan., 1999
 (C) 30th April, 1977 - 21st June, 1977
 (D) 13th March, 1967 - 26th April, 1967

राजस्थान में अंतिम राष्ट्रपति शासन की अवधि क्या थी?

- (A) 15 दिसंबर, 1992 - 03 दिसंबर, 1993
 (B) 1 दिसंबर, 1998 - 04 जनवरी, 1999
 (C) 30 अप्रैल, 1977 - 21 जून, 1977
 (D) 13 मार्च, 1967 - 26 अप्रैल, 1967

66. Choose the wrong pair (State - Number of assembly members) from the following options -

- (A) Assam - 126 (B) Bihar - 243
 (C) Gujarat - 182 (D) Punjab - 150

निम्नलिखित विकल्पों में (राज्य - विधानसभा सदस्यों की संख्या) गलत युग्म चुनिए -

- (A) असम - 126 (B) बिहार - 243
 (C) गुजरात - 182 (D) पंजाब - 150

67. Identify the incorrect pair of Panchayati Raj institutions intermediary level and related state -

- (A) Kshetra Panchayat - Uttar Pradesh
 (B) Panchayat Samiti - Madhya Pradesh
 (C) Taluka Panchayat - Gujarat
 (D) Mandal Panchayat - Karnataka

पंचायती राज संस्थाओं के मध्यवर्ती स्तर एवं संबंधित राज्य के त्रुटिपूर्ण युग्म को पहचानिए -

- (A) क्षेत्र पंचायत - उत्तरप्रदेश
 (B) पंचायत समिति - मध्यप्रदेश
 (C) तालुका पंचायत - गुजरात
 (D) मंडल पंचायत - कर्नाटक

68. In which year Rajasthan State Commission for Women was established?

- (A) 1996
 (B) 1997
 (C) 1998
 (D) 1999

किस वर्ष में राजस्थान राज्य महिला आयोग की स्थापना हुई?

- (A) 1996
 (B) 1997
 (C) 1998
 (D) 1999

69. In which of the zonal council Rajasthan is included?

- (A) Northern region
 (B) Eastern region
 (C) Western region
 (D) Southern region

निम्नलिखित में राजस्थान किस क्षेत्रीय परिषद में शामिल है?

- (A) उत्तरी क्षेत्र
 (B) पूर्वी क्षेत्र
 (C) पश्चिमी क्षेत्र
 (D) दक्षिणी क्षेत्र

70. Which among the following pair (Provision - Article) is incorrect in reference of Panchayat Raj?

- (A) Constitution of Finance Commission to review financial position - 243 I
 (B) Reservation of seats - 243 D
 (C) Duration of Panchayats - 243 E
 (D) Elections to the Panchayats - 243 A

पंचायत राज के संबंध में निम्न में कौनसा (प्रावधान - अनुच्छेद) युग्म गलत है?

- (A) वित्तीय स्थिति के पुनर्विलोकन के लिए वित्त आयोग का गठन - 243 इ
 (B) स्थानों का आरक्षण - 243 घ
 (C) पंचायतों की अवधि - 243 ए
 (D) पंचायतों के लिए निर्वाचन - 243 क

71. Who invented the High Level Language 'C'?

- (A) Dennis M. Ritchie
- (B) Niklaus Wirth
- (C) Seymour Papert
- (D) Donald Knuth

हाई लेवल लैंग्वेज 'C' का आविष्कार किसने किया था?

- (A) डेनिस एम. रिची
- (B) निकलस रिथ
- (C) सेमुर पेपर्ट
- (D) डोनाल्ड कुथ

72. Which of the following are true statements?

I: Primary storage units have faster access time and less storage capacity as compared to secondary storage units.

II: Primary storage units have sequential access.

III: Secondary storage units are non-volatile storage.

- (A) I and II only
- (B) I and III only
- (C) II and III only
- (D) All I, II and III

निम्न में से कौनसे सत्य कथन हैं?

I: द्वितीयक भंडारण इकाईयों की तुलना में प्राथमिक भंडारण इकाईयों का एक्सेस टाइम तेज तथा भंडारण क्षमता कम होती है।

II: प्राथमिक भंडारण इकाईयां क्रमिक अधिगम (सिक्वेंशियल एक्सेस) करती हैं।

III: द्वितीयक भंडारण इकाईयां गैर-वाष्पशील (नॉन-वोलेटाइल) भंडारण होती हैं।

- (A) केवल I तथा II
- (B) केवल I तथा III
- (C) केवल II तथा III
- (D) I, II तथा III सभी

73. Which of the following is correct sequence in context of first to fifth generations of computers?

- (A) Vacuum tubes, Java, IBM-7030, VLSI, MSI
- (B) Transistors, Assembly language, CRAY-2, IC, ULSI
- (C) Machine language, Transistors, ULSI, JAVA, IBM-701
- (D) ENIAC, Transistors, CDC-6600, VLSI, PARAM

कम्प्यूटरों की प्रथम से पंचम पीढ़ियों के संदर्भ में, निम्न में से कौनसी श्रृंखला सही है?

- (A) वैक्यूम ट्यूब, जावा, IBM-7030, VLSI, MSI
- (B) ट्रांजिस्टर्स, असेम्बली लैंग्वेज, CRAY-2, IC, ULSI
- (C) मशीन लैंग्वेज, ट्रांजिस्टर्स ULSI, JAVA, IBM-701
- (D) ENIAC, ट्रांजिस्टर्स, CDC-6600, VLSI, परम

74. Choose an invalid pair -

- (A) C++, Microsoft
- (B) C, AT & T's Bell Laboratories
- (C) JAVA, IBM
- (D) LISP, MIT

अनुचित युग्म का चयन करें -

- (A) C++, माइक्रोसॉफ्ट
- (B) C, AT & T's बेल लैबोरेट्रीज
- (C) JAVA, आई.बी.एम.
- (D) LISP, एम.आई.टी.

To open the existing presentation in MS-PowerPoint, which of the following shortcut key is used?

- (A) Ctrl + L
- (B) Ctrl + N
- (C) Ctrl + A
- (D) Ctrl + O

एम.एस. पॉवर पॉइन्ट में विद्यमान प्रस्तुतीकरण खोलने के लिये, निम्न में से कौनसी शॉर्टकट कुंजी प्रयोग में ली जाती है?

- (A) Ctrl + L
- (B) Ctrl + N
- (C) Ctrl + A
- (D) Ctrl + O

76. Maximum characters in a cell, a worksheet can contain are -

- (A) 64
- (B) 128
- (C) 256
- (D) 512

वर्कशीट में एक सेल में, अधिकतम कितने कैरेक्टर्स रख सकते हैं?

- (A) 64
- (B) 128
- (C) 256
- (D) 512

77. Consider the following screen parts of MS Word 2019 -

I: Quick Access Toolbar

II: Document Tab

III: File tab on the Ribbon

IV: Status bar

Which of the above offers the save, undo and repeat options?

- (A) I and II
- (B) III and IV
- (C) I, II and III
- (D) I and III

एम.एस. वर्ड 2019 के निम्न स्क्रीन-पार्ट्स पर विचार करें -

I: क्विक एक्सेस टूलबार

II: डॉक्यूमेंट टैब

III: रिबन पर स्थित फाइल टैब

IV: स्टेटस बार

उपरोक्त में से कौन से सेव, अनडू तथा रिपीट विकल्प उपलब्ध कराते हैं?

- (A) I तथा II
- (B) III तथा IV
- (C) I, II तथा III
- (D) I तथा III

78. What is output of MS Excel function = LEFT ("RAJASTHAN", 3) & MID ("GANGA", 2, 2)?

- (A) RAJAN
- (B) RAJA
- (C) RAJ & A
- (D) RAJ & AN

एम.एस. एक्सेल फंक्शन = LEFT ("RAJASTHAN", 3) & MID ("GANGA", 2, 2) का आउटपुट क्या है?

- (A) RAJAN
- (B) RAJA
- (C) RAJ & A
- (D) RAJ & AN

79. In context of network topology, match the following -

- (a) Mesh (1) Multipoint connection
- (b) Star (2) Bulk Wiring
- (c) Bus (3) Hub

- (A) (a) - (3), (b) - (2), (c) - (1)
- (B) (a) - (2), (b) - (1), (c) - (3)
- (C) (a) - (2), (b) - (3), (c) - (1)
- (D) (a) - (1), (b) - (3), (c) - (2)

नेटवर्क टोपोलॉजी के संदर्भ में, निम्न का मिलान करें -

- (a) मैश (1) मल्टीपॉइन्ट कनेक्शन
- (b) स्टार (2) बल्क वायरिंग
- (c) बस (3) हब

- (A) (a) - (3), (b) - (2), (c) - (1)
- (B) (a) - (2), (b) - (1), (c) - (3)
- (C) (a) - (2), (b) - (3), (c) - (1)
- (D) (a) - (1), (b) - (3), (c) - (2)

80. The output quality of a printer is measured by -

- (A) Dot per sq. inch
- (B) Dot per inch
- (C) Dots printed per unit time
- (D) All of these

एक प्रिंटर की आउटपुट गुणधर्म किससे मापी जाती है?

- (A) डॉट प्रति वर्ग इंच
- (B) डॉट प्रति इंच
- (C) मुद्रित डॉट्स प्रति इकाई समय
- (D) इनमें से सभी

81. Choose the correct option that expresses the meaning of the underlined idiom -
They have been at daggers drawn for weeks over their distribution of ancestral property.
(A) to live calmly
(B) to live separately
(C) not on talking terms
(D) be bitterly hostile towards each other
82. After ten years war, China gave in. (Choose the correct meaning of the underlined phrasal verb)
(A) refrained (B) started afresh
(C) won (D) surrendered
83. Match the following -
(A) Words
(a) Conspicuous
(b) Transparent
(c) Obsolete
(d) Obscure
(B) Antonyms
(i) Opaque
(ii) Clear
(iii) Concealed
(iv) Contemporary
(A) a-(iii), b-(i), c-(iv), d-(ii)
(B) a-(i), b-(ii), c-(iii), d-(iv)
(C) a-(ii), b-(i), c-(iv), d-(iii)
(D) a-(iv), b-(iii), c-(ii), d-(i)
84. Fill in the blank with the correct preposition -
He has been ill last three months.
(A) for (B) since
(C) by (D) from
85. Fill in the blank space in the sentence given below selecting appropriate set of words from the following options -
..... by long queues and bad weather the voters their way to polling stations any way they could.
(A) Worried, Lost
(B) Encouraged, Prepared
(C) Satisfied, Turned
(D) Undaunted, Made
86. In active voice the sentence will be read as -
"Many amusing stories are told about Mark Twain."
(A) People are telling many amusing stories about Mark Twain.
(B) People are being told many amusing stories about Mark Twain.
(C) People tell many amusing stories about Mark Twain.
(D) Mark Twain tells many amusing stories to people.

87. Match Column I with Column II to form correct proverbs -
Column-I
(a) A leopard.....
(b) Every cloud.....
(c) Don't cry.....
(d) Jack of all trades.....
Column-II
(i)has a silver lining
(ii)can't change its spots
(iii) master of none
(iv)over spilt milk
(A) a-(ii), b-(i), c-(iv), d-(iii)
(B) a-(i), b-(ii), c-(iii), d-(iv)
(C) a-(iv), b-(iii), c-(ii), d-(i)
(D) a-(iii), b-(ii), c-(iv), d-(i)
88. Pick up an appropriate option from the given alternatives to which this sentence can be a response -
"No, I haven't." -
(A) Have you completed your homework?
(B) Did you complete your homework?
(C) Has you completed your homework?
(D) Is your homework completed?
89. Select from the given options the sentence which correctly transforms the following Direct speech sentence in reported speech.
Sentence: "Please, could you tell me the answer?", he said.
(A) He asked me please could I tell him the answer.
(B) He said that please could I tell him the answer.
(C) He asked me to tell him the answer.
(D) He requested if I could tell him the answer.
90. Choose the correct form of the verb/tense from the given sets of options to fill in the blank space in the sentence -
"When we got to the theatre the play already....."
(A) had been/ begun (B) was/began
(C) had/begun (D) has/begin

91. शब्द-प्रकृति की दृष्टि से असुमेलित विकल्प का चयन कीजिए -
(A) गवैया, चौकोर - तद्भव शब्द
(B) आर्द्रक, परीक्षा - तत्सम शब्द
(C) मालवाहक, ज्यादातर - संकर शब्द
(D) जौहरी, मुहैया - देशज शब्द
92. प्रत्यय की दृष्टि से असुमेलित विकल्प का चयन कीजिए -
(A) मानव + ई = मानवी
(B) मृ + अक = मारक
(C) राधा + एय = राधेय
(D) स्थान + अनीय = स्थानीय
93. 'तीन लोक से मथुरा न्यारी' का अर्थ है -
(A) यथास्थिति में रहना
(B) परिवर्तित परिस्थितियों पर नजर रखना
(C) अन्य से भिन्न होना
(D) अपना-अपना भाग्य
94. किस विकल्प में शब्द-युग्म का अर्थ-भेद सही नहीं है?
(A) विपिन-विपन्न - कष्टकारी-जंगल
(B) विजय-विजया - जीत-देवी
(C) वत्स-वत्सर - बछड़ा-वर्ष
(D) विपण-विपणि - बाजार-दुकान
95. असंगत का चुनाव कीजिए -
(A) माधव, पिकमित्र, कुसुमाकर
(B) पंथी, क्षपा, बटोही
(C) अरि, अराति, अमित्र
(D) वाटिका, गुलशन, बगीचा

96. वाक्यांश के लिए एक शब्द के संदर्भ में असंगत विकल्प चुनिए -
(A) हास्य-व्यंग्य से पूर्ण नाटक रूप - प्रहसन
(B) जो किसी अन्य में मिल गया हो - अन्तर्भुक्त
(C) जो किसी चीज के आर-पार देख सकता है - दूरदर्शी
(D) जो चिरकाल से चला आया है - चिरंतन
97. असंगत विलोम शब्द-युग्म का चयन कीजिए -
(A) आतप - अनातप
(B) आगामी - विगत
(C) ईप्सित - अभीप्सित
(D) अन्वय - अनन्वय
98. निम्नलिखित शब्दों पर विचार कीजिए -
(A) विरहिणी, चहारदीवारी
(B) आध्यात्म, स्वास्तिक
(C) माहात्म्य, साप्ताहिक
(D) अनाधिकार, भवनिष्ठ
किस विकल्प के सभी शब्द शुद्ध हैं?
(A) A, B और C
(B) A और C
(C) A और B
(D) चारों विकल्प सही हैं
99. किस विकल्प में संधि-विच्छेद सही नहीं हुआ है?
(A) जात्यभिमान = जाति + अभिमान
(B) पुरोहित = पुरः + हित
(C) नारायण = नर + अयन
(D) वाग्धरि = वाक् + हरि
100. समास की दृष्टि से अनुचित विकल्प पहचानिए -
(A) पनचक्की - पानी से चलने वाली चक्की
(B) दशानन - दस हैं आनन जिसके
(C) धर्मभ्रष्ट - वह जो धर्म से पतित हो गया हो
(D) समाचार पत्र - समाचार के द्वारा पत्र