

political agent of Jaipur during the

- (B) Mock Mason
(D) Major Morrison

districts were included in 'Intensive District Programme' in 1960-61?

- (B) 7 Districts
(D) 9 Districts

the following is not a proposed district of Indira Gandhi Nahar?

- (B) Sikar
(D) Nagaur

Secretary-General of United Nations?

- (B) Ban Ki-moon
(D) Antonio Guterres

the following statement is true?

Dhankhar sworn in as the 14th Vice-President of India on 6th August, 2022 (g to person).

Dhankhar belongs to Jhunjhunu district and is the second person from Rajasthan to become the Vice-President.

Dhankhar has also been a Lok Sabha M. P., a member of the Rajasthan Legislative Assembly and the Governor of West Bengal.

the Speaker of both the House of Representatives and the Senate is from Rajasthan.

- (B) i, ii, iii, iv
(D) ii, iii

the following Railway station has been declared Platinum Green Railway Station in Rajasthan?

- (B) Jodhpur
(D) Hyderabad

which of the following is not correctly matched?

(A) Dhankhar - Suryamall Mishan

(B) Vijay - Chand Bardai

(C) Kalidasa - Uddhyotana Suri

(D) Mahakavya - Nayanchandra Suri

- 1857 की क्रांति के दौरान राजस्थान के पॉलिटिकल एजेंट कौन थे?
(A) मेजर बर्टन (B) मॉक मसन
(C) विलियम ईडन (D) मेजर मॉरीसन
- सन् 1960-61 में, 'गहन कृषि जिला कार्यक्रम' के अंतर्गत कितने जिलों को समाहित किया गया?
(A) आठ जिले (B) सात जिले
(C) दस जिले (D) नौ जिले
- निम्न में से कौन इंदिरा गांधी नहर परियोजना का प्रस्तावित लाभार्थी जिला नहीं है?
(A) जोधपुर (B) सीकर
(C) पाली (D) नागौर
- वर्तमान में संयुक्त राष्ट्र संघ के महासचिव कौन हैं?
(A) कोफी अन्नान (B) बान की-मून
(C) पेरेज दी कुएलर (D) एंटोनियो गुटेरेस
- निम्नांकित में से कौन सा कथन सत्य है?
(i) 6 अगस्त, 2022 को जगदीप धनखड़ ने भारत के 14वें उपराष्ट्रपति के रूप में शपथ ली (व्यक्ति के अनुसार)
(ii) जगदीप धनखड़ का संबंध झुंझुनू जिले से है तथा राजस्थान से उपराष्ट्रपति बनने वाले दूसरे व्यक्ति हैं।
(iii) यह लोकसभा सांसद, राजस्थान विधानसभा के सदस्य व पश्चिम बंगाल के राज्यपाल भी रहे हैं।
(iv) वर्तमान में संसद के दोनों ही सदनों के अध्यक्ष राजस्थान से हैं।
(A) i, ii, iii (B) i, ii, iii, iv
(C) ii, iii, iv (D) ii, iii
- निम्न में से किस रेलवे स्टेशन को हाल ही में प्लेटिनम ग्रीन रेलवे स्टेशन रेटिंग दी गई है?
(A) अजमेर (B) जोधपुर
(C) मुंबई (D) हैदराबाद
- निम्न में से कौन-सा युग्म सुमेलित नहीं है?
(A) वंश भास्कर - सूर्यमल्ल मीसण
(B) पृथ्वीराज विजय - चन्दबरदाई
(C) कुवलयमाला - उद्योतन सूरी
(D) हम्मीर महाकाव्य - नयनचन्द्र सूरी

7. Which (Mineral – Mining Area) is not a correct match?

- (A) Garnet – Kalaguman
- (B) Rock Phosphate – Jhamar-Kotra
- (C) Iron Ore – Morija-Dabla
- (D) Manganese – Kala-Khunta

8. The motive of e-SHRAM portal is -

- (A) to create a National Database of unorganised workers
- (B) to do online payment of workers
- (C) to create a National Database of organised workers
- (D) to educate workers

9. 'PARAKH', recently seen in news is related to which of the following?

- (A) Education
- (B) Banking
- (C) Health
- (D) Industry

10. In which year was first commemorative stamp on 'Vijay Stambh' of Chittorgarh released?

- (A) 1974
- (B) 1986
- (C) 1956
- (D) 1949

11. The author of poetry collection, 'Mugtee' is -

- (A) Meethesh Nirmohi
- (B) Vijay Verma
- (C) Kirti Sharma
- (D) Asha Parashar

12. In which year the concept of Multidimensional Poverty Index was introduced?

- (A) 2010
- (B) 2008
- (C) 2000
- (D) 2011

13. Who was the first Chairperson of the State Finance Commission in Rajasthan?

- (A) Heeralal Devpura
- (B) S. K. Ghosh
- (C) K. K. Goyal
- (D) M. C. Surana

14. 'Palk strait' is located between -

- (A) India and Sri Lanka
- (B) India and Maldives
- (C) India and Myanmar
- (D) India and Indonesia



8. कौनसा (खनिज – खनन क्षेत्र) सही सुमेलित नहीं है?

- (A) तामड़ा – कालागुमान
- (B) रॉक फॉस्फेट – झामर-कोटड़ा
- (C) लौह अयस्क – मोरीजा-दाबला
- (D) मैंगनीज – काला-खुंटा

9. ई-श्रम पोर्टल का उद्देश्य है -

- (A) अगठित कामगारों का एक राष्ट्रीय डेटाबेस बनाना
- (B) कामगारों को ऑनलाइन भुगतान करना
- (C) संगठित कामगारों का एक राष्ट्रीय डेटाबेस बनाना
- (D) कामगारों को शिक्षित करना

10. हाल ही में खबरों में रहा 'परख' निम्नलिखित में से किससे संबंधित है?

- (A) शिक्षा
- (B) बैंकिंग
- (C) स्वास्थ्य
- (D) उद्योग

11. चित्तौड़गढ़ स्थित 'विजय स्तम्भ' पर पहला स्मारक डाक टिकट कब जारी किया गया?

- (A) 1974
- (B) 1986
- (C) 1956
- (D) 1949

12. 'मुग्ती' नामक कविता संग्रह के रचयिता हैं -

- (A) मीथेश निर्मोही
- (B) विजय वर्मा
- (C) कीर्ति शर्मा
- (D) आशा पाराशर

13. बहुआयामी गरीबी सूचकांक की अवधारणा किस वर्ष शुरू की गई थी?

- (A) 2010
- (B) 2008
- (C) 2000
- (D) 2011

14. राजस्थान में राज्य वित्त आयोग के प्रथम अध्यक्ष कौन थे?

- (A) हीरालाल देवपुरा
- (B) एस. के. घोष
- (C) के. के. गोयल
- (D) एम. सी. सुराणा

15. 'पालक स्ट्रेट' अवस्थित है -

- (A) भारत और श्रीलंका के मध्य
- (B) भारत और मालदीव के मध्य
- (C) भारत और म्यांमार के मध्य
- (D) भारत और इण्डोनेशिया के मध्य

6. Border Security Force has launched which operation at Rajasthan border in January, 2022?
 (A) Operation Shakti (B) Operation Sard Hawa
 (C) Operation Pawan (D) Operation Kranti
7. Where did the subsidiary of Adani Hybrid Energy setup India's first wind-solar hybrid power plant?
 (A) Raipur (B) Jaisalmer
 (C) Delhi (D) Hyderabad
8. What is the maximum amount that the Rajasthan State Information Commission can impose fine for not giving information?
 (A) 30,000 (B) 20,000
 (C) 15,000 (D) 25,000
9. Gandhi Ashram in Hatundi (Ajmer) was established by -
 (A) Arjunlal Sethi (B) Manikya Lal Verma
 (C) Haribhau (D) Jamnalal Bajaj Upadhyaya
20. Which among the following (Topography - Location) is not correctly matched?
 (A) Bhorat Plateau - Between Kumbhalgarh to Gogunda
 (B) Bhakar - Eastern Sirohi
 (C) Oriya Plateau - Mt. Abu
 (D) Lasadia Plateau - Rajsamand
21. 108th Indian Science Congress scheduled to be held in January 2023 at -
 (A) Nagpur (B) Agartala
 (C) Bangalore (D) Udaipur
22. 32nd Bihar Puraskar was awarded to Dr. Madhav Hada by K. K. Birla Foundation for which of his literary work?
 (A) Taslima : Sangharsh Aur Sahitya
 (B) Pachrang Chola Pahar Sakhi ri
 (C) Aankh Heenyai Ra Hariyal Sapana
 (D) Hum Yahan The
16. सीमा सुरक्षा बल द्वारा जनवरी, 2022 में राजस्थान की सीमा पर कौन सा अभियान चलाया गया?
 (A) ऑपरेशन शक्ति (B) ऑपरेशन सर्द हवा
 (C) ऑपरेशन पवन (D) ऑपरेशन क्रांति
17. अडानी हाइब्रिड एनर्जी की सहायक कंपनी ने किस स्थान पर भारत का पहला पवन-सौर हाइब्रिड पावर प्लांट स्थापित किया?
 (A) रायपुर (B) जaisalmer
 (C) दिल्ली (D) हैदराबाद
18. राजस्थान राज्य सूचना आयोग सूचना नहीं देने पर अधिकतम कितनी राशि का जुर्माना आरोपित कर सकता है?
 (A) 30,000 (B) 20,000
 (C) 15,000 (D) 25,000
19. हटुण्डी (अजमेर) में गांधी आश्रम की स्थापनाके द्वारा की गई।
 (A) अर्जुनलाल सेठी (B) माणिक्य लाल वर्मा
 (C) हरिभाऊ उपाध्याय (D) जमनालाल बजाज
20. निम्नांकित में से कौनसा (स्थलाकृति - अवस्थिति) सही सुमेलित नहीं है?
 (A) भोरट पठार - कुम्भलगढ़ से गोगुन्दा के मध्य
 (B) भाकर - पूर्वी सिरोही
 (C) उड़िया पठार - मा. आवू
 (D) लसाड़िया पठार - राजसमन्द
21. जनवरी 2023 में 108^{वीं} इंडियन साइंस कांग्रेस आयोजित होगी -
 (A) नागपुर में (B) अगरतला में
 (C) बंगलोर में (D) उदयपुर में
22. के. के. विडला फाउंडेशन द्वारा 32^{वां} बिहारी पुरस्कार, डॉ. माधव हाड़ा को प्रदान किया गया, उनकी किस कृति के लिए?
 (A) तस्लीमा : संघर्ष और साहित्य
 (B) पचरंग चोला पहर सखी री
 (C) आंख हींयै रा हरियल सपना
 (D) हम यहाँ थे

me has been implemented on the NREGA to provide financial support to families residing in the limits of urban Rajasthan?

(A) Pradhan Mantri Urban Employment Guarantee Scheme

(B) Gandhi Urban Employment Guarantee Scheme

(C) Gandhi Urban Employment Guarantee Scheme

(D) Pradhan Mantri Shahari Rojgar Yojana

Place in Rajasthan the Chandrabhaga Fair is organized in the month of Kartik?

(A) Bikaner (B) Keshoraipatan

(C) Jaipur (D) Jhalawar

Meridian that determines the Indian Standard Time - (IST) is given the status of Standard Meridian then what will be longitude of Standard Date line?

(A) 82°30' East (B) 97°30' East

(C) 97°30' West (D) 82°30' East

India has been divided into 15 Agro-climatic zones.

(A) Agricultural Ministry

(B) Water-Resource Ministry

(C) Planning Commission

(D) Meteorological Department

In order of Sufism, the symbol of spiritual harmony Qazi Hamiduddin Nagori, is associated with which city?

(A) Lucknow (B) Magribi

(C) Agra (D) Chisti

Which of the following (Shifting Cultivation) is not correctly matched?

(A) Jhum - Madhya Pradesh

(B) Jhum - Andhra Pradesh and Odisha

(C) Jhum - Kerala

(D) Jhum - Assam

The first olive refinery, was set up in India at -

(A) Gandhinagar (B) Suratgarh

(C) Karansar (D) Pachpadra

23. मनरेगा की तर्ज पर राजस्थान के शहरी निकायों की शीमा में रहने वाले परिवारों को वित्तीय सहयोग के लिए कौनसी योजना लागू की गई है?

(A) दीन दयाल उपाध्याय शहरी रोजगार गारन्टी योजना

(B) राजीव गाँधी शहरी रोजगार गारन्टी योजना

(C) इंदिरा गाँधी शहरी रोजगार गारन्टी योजना

(D) प्रधानमंत्री शहरी रोजगार योजना

24. कार्तिक महीने में चन्द्रभागा पशु मेला राजस्थान में किस स्थान पर आयोजित होता है?

(A) झालरापाटन

(B) केशवरायपाटन

(C) सीतावाड़ी

(D) झालावाड़

25. यदि भारतीय मानक समय - (IST) को निर्धारित करने वाली देशान्तर रेखा को प्रधान देशान्तर रेखा का दर्जा दिया जाए, तो अन्तर्राष्ट्रीय तिथि रेखा का देशान्तर क्या होगा?

(A) 180° पूर्व

(B) 97°30' पूर्व

(C) 97°30' पश्चिम

(D) 82°30' पूर्व

26. भारत को 15 कृषि-जलवायु प्रदेशों में विभक्त किया गया है -

(A) कृषि मंत्रालय द्वारा

(B) जल-संसाधन मंत्रालय द्वारा

(C) योजना आयोग द्वारा

(D) मौसम विभाग द्वारा

27. साम्प्रदायिक सौहार्द के प्रतीक, काजी हमीदुद्दीन नागौरी, किस सूफी सिलसिले के थे?

(A) चक्री

(B) मगरिबी

(C) सुहरावर्दी

(D) चिश्ती

28. निम्नलिखित में से कौन सा (स्थानान्तरी कृषि - क्षेत्र) सुमेलित नहीं है?

(A) कुमारी - मध्य प्रदेश

(B) पोडू - आन्ध्र प्रदेश और ओडिशा

(C) पोनम - केरल

(D) झूम - असम

29. भारत की प्रथम जैतून रिफायनरी, राजस्थान में स्थापित की गई थी -

(A) अमरसागर में

(B) सूरतगढ़ में

(C) लूणकरणसर में

(D) पचपद्रा में

nd' got constructed by Akbar is
ch fort?

- (B) Sivana
(D) Shergarh

h newspaper did Vijay Singh
ite the Bijolia farmer movement

- sthan (B) Pratap
jasthan (D) Yugantar

ollowing Hills is not a part of the
e'?

- (B) Maikal
(D) Mahadev

argest agro - climatic region of

- l southern plains
partial irrigated zone
ainage dry zone
rn plains

man of 15th Finance Commission

- an (B) Nirmala Sitaraman
Lahiri (D) N. K. Singh

2011 Census, the percentage of
e population to total population
s -

- (B) 14.8
(D) 16.9

elated to which folk dance?

- ce (B) Bhawai Dance
Dance (D) Kalbelia Dance

am' waterfall is located on which

- (B) Kaveri
(D) Sharavati

ct Shergarh Wildlife Sanctuary is

- (B) Bundi
(D) Sawai Madhopur

30. अकबर द्वारा निर्मित 'शुक्र तालाब' किस किले में स्थित
है?

- (A) गागरोन (B) सिवाना
(C) नागौर (D) शेरगढ़

31. विजयसिंह पथिक ने किस समाचार पत्र के माध्यम से
बिजौलिया किसान आन्दोलन का प्रचार पूरे भारत में
कर दिया था?

- (A) तरुण राजस्थान (B) प्रताप
(C) नवीन राजस्थान (D) युगान्तर

32. निम्नलिखित पहाड़ियों में से कौन सी 'सतपुड़ा श्रृंखला'
का भाग नहीं है?

- (A) राजपीपला (B) मैकाल
(C) मारनेर (D) महादेव

33. राजस्थान का सबसे बड़ा कृषि - जलवायु प्रदेश
कौनसा है?

- (A) उप आर्द्र दक्षिणी मैदान
(B) अति शुष्क आंशिक सिंचित क्षेत्र
(C) आंतरिक प्रवाह का शुष्क क्षेत्र
(D) शुष्क पश्चिमी मैदान

34. 15^{वें} वित्तीय आयोग के अध्यक्ष कौन हैं?

- (A) अजय नारायण (B) निर्मला सीतारमण
(C) डॉ. अशोक लाहिड़ी (D) एन. के. सिंह

35. 2011 की जनगणना के अनुसार, राजस्थान की कुल
जनसंख्या में अनुसूचित जनजाति की जनसंख्या का
प्रतिशत है -

- (A) 13.3 (B) 14.8
(C) 13.5 (D) 16.9

36. 'फल्कू बाई' का सम्बन्ध किस लोक नृत्य से है?

- (A) चरी नृत्य (B) भवाई नृत्य
(C) तेरहताली नृत्य (D) कालबेलिया नृत्य

37. 'शिवसमुद्रम' जलप्रपात किस नदी पर अवस्थित
है?

- (A) गोदावरी (B) कावेरी
(C) पेरियार (D) शरावती

38. शेरगढ़ वन्यजीव अभ्यारण्य किस जिले में स्थित
है?

- (A) करौली (B) बूंदी
(C) धारा (D) सवाई माधोपुर

'NIPUN Bharat Mission' is being implemented by -

Ministry of Micro, Small and Medium Enterprises

Ministry of Labour & Employment

Ministry of Education

Ministry of Science & Technology

Jaipur Rajya Praja Sangh was established in

1938 (B) 1928

1942 (D) 1937

Grass is mainly found in Rajasthan in the

South-Eastern Rajasthan (Hadoti)

Jaipur and Tonk Forest division

of the Mountain region

National Mission for Saffron has been implemented as a sub-scheme of which among the following programmes?

National Horticulture Mission

National Cash Crop Programme

National Food Security Mission

Kishriya Krishi Vikas Yojana

Chandrashekhar Singh Barhath was imprisoned in which of the following conspiracy case?

Chandrashekhar Singh Barhath conspiracy case

Chandrashekhar Singh Barhath conspiracy case

Chandrashekhar Singh Barhath conspiracy case

Chandrashekhar Singh Barhath conspiracy case

In Rajasthan the quorum to constitute a meeting for the consideration of a resolution of censure motion against the chairman, the Rajya Sabha shall be.....of the total number of persons entitled to vote thereat.

Three fourth (3/4) (B) One third (1/3)

Two third (2/3) (D) One tenth (1/10)

39. 'निपुण भारत मिशन' कार्यान्वित किया जा रहा है -

(A) सूक्ष्म, लघु एवं मध्यम उद्यम मंत्रालय द्वारा

(B) सूक्ष्म एवं रोजगार मंत्रालय द्वारा

(C) शिक्षा मंत्रालय द्वारा

(D) विज्ञान एवं प्रौद्योगिकी मंत्रालय द्वारा

40. भरतपुर राज्य प्रजा संघ की स्थापना हुई -

(A) 1938 में

(B) 1928 में

(C) 1942 में

(D) 1937 में

41. खस की घास मुख्य रूप से राजस्थान में पाई जाती है -

(A) पश्चिमी राजस्थान में

(B) दक्षिण-पूर्वी राजस्थान (हाड़ौती) में

(C) भरतपुर और टोंक वन विभाग में

(D) आबू पर्वत क्षेत्र में

42. राष्ट्रीय केसर मिशन निम्नलिखित में से किसकी उप-योजना के रूप में लांच किया गया?

(A) राष्ट्रीय बागवानी मिशन

(B) राष्ट्रीय नकदी फसल प्रोग्राम

(C) राष्ट्रीय खाद्य सुरक्षा मिशन

(D) राष्ट्रीय कृषि विकास योजना

43. निम्नलिखित में से किस षड़यंत्र केस में प्रतापसिंह बारहठ को कारावास दिया गया?

(A) अलीपुर षड़यंत्र मुकदमा

(B) बनारस षड़यंत्र मुकदमा

(C) जालौर षड़यंत्र मुकदमा

(D) उदयपुर षड़यंत्र मुकदमा

44. राजस्थान में नगर पालिका अध्यक्ष के विरुद्ध अविश्वास के प्रस्ताव पर विचार करने के लिए किसी बैठक के गठन के लिए गणपूर्ति उसमें मतदान के अधिकार व्यक्तियों की कुल संख्या की..... होगी।

(A) तीन चौथाई (3/4)

(B) एक तिहाई (1/3)

(C) दो तिहाई (2/3)

(D) दसवाँ भाग (1/10)

OR' program which is being run with co-ordination of the Police Commissionerate, Jaipur, is aimed at -
 ication of child labour
 ilitation of beggars
 ilitation of criminals
 diction

ch share of the center and the state kept for the financial arrangement of Right Prone Area Programme (DPAP) in Rajasthan?

- (A) 50:50
 (B) 50:50
 (C) 75:25
 (D) 75:25

que of Malik Shah is situated in -
 (A) Jhalawar
 (B) Jhalawar
 (C) Baran
 (D) Baran

one of the following musical instrument is not from the other three?
 (A) Sitar
 (B) Mashak
 (C) Tal
 (D) Algoza

the place of Rajasthan in the production of groundnut in India?
 (A) First
 (B) First
 (C) Second
 (D) Second

Which of the following (Irrigation Project) is not matched correctly?
 (A) Bhado - Kota
 (B) Narmada - Jaipur
 (C) Kamla-Amba - Dungarpur
 (D) Sagardar - Udaipur

(on 9th April, 2022), who among the following folk music artist of Rajasthan was awarded 'Sangeet Natak Akademy Award'?

- (A) Khan
 (B) Kheta Khan
 (C) Khan
 (D) Gazi Khan Barna

Which districts of Rajasthan, population is found to be less than 100 persons per square kilometre (According to Census - 2011)?
 (A) Barmer, Barmer and Bikaner
 (B) Barmer, Pali and Barmer
 (C) Barmer, Barmer and Jodhpur
 (D) Barmer, Pali and Jodhpur

45. 'भोर' (बी.एच.ओ.आर.) कार्यक्रम जो कि पुलिस आयुक्तालय जयपुर में चलाया जा रहा है, का उद्देश्य है -

- (A) बाल श्रम का उन्मूलन
 (B) निमग्नियों का पुनर्वास
 (C) अपराधियों का पुनर्वास
 (D) नशामुक्ति

46. राजस्थान में संचालित सूखा संभाव्य क्षेत्र कार्यक्रम (डी.पी.ए.पी.) की वित्तीय व्यवस्था के लिए केंद्र एवं राज्य का हिस्सा कितना रखा गया है?

- (A) 60:40
 (B) 50:50
 (C) 90:10
 (D) 50:50

47. मलिक शाह की मस्जिद कहाँ स्थित है?

- (A) जालौर
 (B) झालावाड़
 (C) राजसमंद
 (D) बारां

48. निम्नलिखित में से कौन सा वाद्य यंत्र बाकी तीन से अलग है?

- (A) शहनाई
 (B) मशक
 (C) खड़ताल
 (D) अलगोजा

49. मूंगफली के उत्पादन में राजस्थान का भारत में कौनसा स्थान है?

- (A) चतुर्थ
 (B) प्रथम
 (C) तृतीय
 (D) द्वितीय

50. निम्नलिखित में से कौन सा (सिंचाई परियोजना - जिला) सुमेलित नहीं है?

- (A) सावन-भादो - कोटा
 (B) परवन-लिफ्ट - जयपुर
 (C) सोम-कमला-अम्बा - डूंगरपुर
 (D) सोम कागदर - उदयपुर



51. हाल ही में (9 अप्रैल, 2022 को) राजस्थान के निम्नलिखित में से किस लोक संगीत कलाकार को 'संगीत नाटक अकादमी पुरस्कार' प्रदान किया गया?

- (A) दापू खान
 (B) खेता खान
 (C) रामे खान
 (D) गाजी खान बरना

52. राजस्थान में कौन से जिलों में जनसंख्या घनत्व 100 व्यक्ति प्रति वर्ग किलोमीटर से कम पाया जाता है (जनगणना - 2011 के अनुसार)?

- (A) जैसलमेर, बाड़मेर और बीकानेर
 (B) जैसलमेर, पाली और बाड़मेर
 (C) जैसलमेर, बाड़मेर और जोधपुर
 (D) जैसलमेर, पाली और जोधपुर

statements carefully -
Paliwal is the only Chief Minister
has also been a Deputy Chief Minister
Rajasthan.

Shankar Bhabhra has been the Deputy
Minister of Rajasthan for the longest
time till now.

Which of the following option is correct?
I and II are correct
I and II are incorrect
I is correct
II is correct

Which of the following districts of Rajasthan
has 'vertisols soil' is found?

(A) Bundi and Baran
(B) Jaipur, Bikaner and Bikaner
(C) Jaipur, Dausa and Alwar
(D) Bhilwara and Sirohi

Which item is worn on the waist by the men of Bhil
tribe?

(A) Kachabu
(B) Jama
(C) Kachabu
(D) Kachabu

Which of the following is related to green
revolution in India?

(A) Introduction of Green GNP
(B) Environment Protection
(C) Yielding Variety of Seeds
(D) Green House Effect

Which one of the following (Ornament -
body part) is not matched correctly?

(A) Tagadi - Neck
(B) Tagadi - Waist
(C) Tagadi - Ear
(D) Ramjhol - Wrist

Which tribe is famous for -

(A) Jains
(B) Jains
(C) Gurjars
(D) Gurjars

Which Governor of Rajasthan is the ex-officio
Chairman of -

(A) State and Private Universities as well
(B) Central Universities working in the
(C) Territory of Rajasthan.

(D) State as well as Private Universities
working in Rajasthan.

(A) State Universities as well as all the
(B) Central Universities working in the territory
(C) of Rajasthan.

(D) State Universities of Rajasthan.

53. कथनों को ध्यानपूर्वक पढ़िए -
(I) टीकाराम पालीवाल राजस्थान में एकमात्र ऐसे
मुख्यमंत्री हैं, जो उपमुख्यमंत्री भी रहे हैं।
(II) हरिशंकर भाभड़ा राजस्थान में अब तक सबसे
लम्बे समय तक उपमुख्यमंत्री रहे हैं।

निम्न में से कौनसा विकल्प सही है?

(A) I व II दोनों कथन सही हैं
(B) I व II दोनों कथन गलत हैं
(C) केवल कथन II सही है
(D) केवल कथन I सही है

54. राजस्थान के निम्नलिखित में से किन जिलों में
'इन्सेप्टीसोल्स मृदा' पायी जाती है?

(A) कोटा, बूंदी और बारां
(B) जयपुर, बाड़मेर और बीकानेर
(C) जयपुर, दौसा और अलवर
(D) पाली, भीलवाड़ा और सिरोंही

55. भील जनजाति के पुरुष कमर पर जो वस्त्र लपेटा
करते हैं उसे क्या कहा जाता है?

(A) खोयतु
(B) जामा
(C) पोल्या
(D) कछाबू

56. निम्नलिखित में से कौनसा भारत में हरित क्रांति से
संबंधित है?

(A) हरित जी.एन.पी. की गणना
(B) पर्यावरण संरक्षण
(C) उच्च उत्पादकता किस्मों के बीज
(D) हरित गृह प्रभाव

57. निम्नलिखित में से कौनसा (आभूषण - मानव अंग)
सुमेलित नहीं है?

(A) तिमणिया - गला
(B) तगड़ी - कमर
(C) सुरलिया - कान
(D) रामझोल - कलाई

58. लोडवा प्रसिद्ध है -

(A) जाटों के लिए
(B) जैनियों के लिए
(C) सिक्खों के लिए
(D) गुर्जरों के लिए

59. राजस्थान के राज्यपाल पदेन कुलाधिपति होते हैं -

(A) समस्त राज्य एवं निजी विश्वविद्यालयों के साथ
ही राजस्थान के मू-भाग में कार्यरत केन्द्रीय
विश्वविद्यालयों के।

(B) राजस्थान के समस्त राज्य के साथ ही निजी
विश्वविद्यालयों के।

(C) समस्त राज्य विश्वविद्यालयों के साथ ही राजस्थान
के मू-भाग में कार्यरत केन्द्रीय विश्वविद्यालयों के।

(D) राजस्थान के समस्त राज्य विश्वविद्यालयों के।

Census 2011, the sex ratio in
lower than the national average.
lower than the national average.
lower than the national average.
higher than the national average.
roduced largely in which part of

South (B) Central

(D) Eastern

volumes are there in 'Batan Ri

(B) 8

(D) 16

the following groups of districts in
alluvial soil mainly found?

(A) Jaisalmer (B) Kota - Bundi

(C) Jaipur - Bharatpur -

Jaipur - Dholpur

), on behalf of the company, the
made Treaty with the Rajput state

(A) Metcalfe (B) Charles Hector

(C) Ferguson (D) Mock Mason

ited the combined army of British
in state in the Revolt of 1857?

(A) Ram Singh (B) Jaydayal

(C) Durgam Khan (D) Thakur Kushal

Singh

did Kesari Singh Barhath addressed
'Ra Chungatiya'?

(A) Prataap Singh

(B) Aajit Singh

(C) Prataap Singh

(D) Raja Jaisingh

ong the following Thikanas imposed
'tax'?

(A) Brijgarh (B) Bijolia

(C) Brijgarh (D) Kuchaman

60. जनगणना 2011 के अनुसार, राजस्थान में
लिंगानुपात -

(A) राष्ट्रीय औसत से 6 बिन्दू कम है।

(B) राष्ट्रीय औसत से 15 बिन्दू कम है।

(C) राष्ट्रीय औसत से 11 बिन्दू कम है।

(D) राष्ट्रीय औसत से 6 बिन्दू अधिक है।

61. राजस्थान के किस भाग में मक्का का सर्वाधिक
उत्पादन होता है?

(A) दक्षिणी तथा दक्षिणी पूर्वी (B) मध्यवर्ती

(C) उत्तरी

(D) पूर्वी

62. 'बातां री फुलवारी' कितने खण्डों में विभक्त है?

(A) 10

(B) 8

(C) 14

(D) 16

63. निम्नलिखित में से राजस्थान के किन जिलों के समूह
में मुख्यतः कच्छारी मृदा पाई जाती है?

(A) बीकानेर - जैसलमेर (B) कोटा - बूंदी

(C) बांसवाड़ा - डूंगरपुर (D) भरतपुर - धौलपुर

64. 1818 ई. में, कम्पनी की ओर से राजपूत राज्यों से
संधि करने वाला अधिकारी था -

(A) चार्ल्स मेटकाफ

(B) चार्ल्स हेक्टर

(C) जेम्स फर्ग्यूसन

(D) मॉक मेसन

65. 1857 की क्रांति में, अंग्रेज एवं जोधपुर राज्य की
संयुक्त सेना को किसने पराजित किया?

(A) रावत रामसिंह ने

(B) जयदयाल ने

(C) मेहराब खान ने

(D) ठाकुर कुशाल सिंह ने

66. केसरी सिंह बारहठ ने 'चेतावनी रा चुंगटिया' किसका
सम्बोधित करके लिखा?

(A) महाराणा प्रताप सिंह

(B) महाराणा अजीत सिंह

(C) महाराणा फतेह सिंह

(D) मिर्जा राजा जयसिंह

67. निम्नलिखित ठिकानों में से किसने 'चैवरी का
लगाया?

(A) डीडवाना

(B) विजौलिया

(C) भैंसरोड़गढ़

(D) कुचामन

Project' is constructed in which

- Baran (B) Dungarpur and Banswara
Sawai (D) Jhalawar and Baran

istrict of Rajasthan, in the latest Geological Survey of India 2021, huge cement grade limestone have been

- (B) Jaisalmer
(D) Pali

enure of which Governor General Hindu Widow Remarriage Act was

- (B) Lord Ellenborough
(D) Lord Amherst

Swami Keshavananda, a famous saint born?

- (B) Banasur Village
(D) Harnawa Village

man of State Human Rights is appointed by the Governor on recommendation of a committee, who following is not part of that?

- (B) Minister of Justice of High Court
(C) Opposition Leader of Legislative Assembly
(D) Member of Legislative Assembly

'Wind Energy Project' is established in which district of Rajasthan?

- (B) Jodhpur
(D) Chittorgarh

to the Census 2011, which district had the lowest rural sex ratio?

- (B) Pali
(D) Dholpur

the first Protem Speaker of Rajasthan Assembly?

- (A) Govind Singh Nahar
(B) Ram Chand Vishnoi
(C) Man Singh Masuda
(D) Sarao Sangram Singh



68. 'ईसरदा बाँध परियोजना' किन जिलों में निर्मित किया गया है?
(A) कोटा और बारां
(B) डूंगरपुर और बांसवाड़ा
(C) टोंक और सवाई माधोपुर
(D) झालावाड़ और बारां
69. राजस्थान के किस जिले में, जियो लॉजिकल सर्वे ऑफ इण्डिया 2021 के नवीनतम सर्वेक्षण में, सीमेंट ग्रेड लाइमस्टोन के विशाल भण्डार मिले हैं?
(A) चित्तौड़गढ़
(B) जैसलमेर
(C) झालावाड़
(D) पाली
70. भारत के किस गवर्नर जनरल के कार्यकाल के दौरान, हिंदू विधवा पुनर्विवाह अधिनियम पारित किया गया था?
(A) लॉर्ड मेयो
(B) लॉर्ड एलनबरो
(C) लॉर्ड कैनिंग
(D) लॉर्ड एमहर्स्ट
71. शिक्षा संत के रूप में, प्रसिद्ध स्वामी केशवानन्द का जन्म कहाँ हुआ?
(A) बाणासुर गाँव
(B) बाणासुर गाँव
(C) रामपुरा बेरी
(D) हरनावा गाँव
72. राज्य मानवाधिकार आयोग के अध्यक्ष की नियुक्ति राज्यपाल द्वारा एक समिति की सिफारिश पर की जाती है, जिसमें कौन शामिल नहीं होता है?
(A) मुख्यमंत्री
(B) उच्च न्यायालय का मुख्य न्यायाधीश
(C) विधानसभा का विपक्ष का नेता
(D) विधानसभा अध्यक्ष
73. 'वीथड़ी पवन ऊर्जा परियोजना' राजस्थान के किस जिले में स्थापित की गई है?
(A) जैसलमेर
(B) जोधपुर
(C) बीकानेर
(D) चित्तौड़गढ़
74. 2011 की जनगणना के अनुसार, राजस्थान के किस जिले में न्यूनतम ग्रामीण लिंगानुपात था?
(A) जैसलमेर
(B) पाली
(C) टोंक
(D) धौलपुर
75. राजस्थान विधान सभा के प्रथम प्रोटेम स्पीकर कौन थे?
(A) यशवंत सिंह नाहर
(B) पूनम चंद विश्णोई
(C) नारायण सिंह मसुदा
(D) महाराव संग्राम सिंह

year, Rajasthan State Environment
s declared?

- (B) 2010
(D) 2018

ndir of Jodhpur' is a place of worship

nehi sect (B) Bishnoi sect
sect (D) Dadu sect

rupee note bears the signature of

Minister (B) Secretary, Ministry
of Finance
ce Minister (D) Governor, RBI

Following statements carefully -
late 19th century, the Desh Hiteshini
was established in Mewar.

reform was the core objective of the

he correct code -

statement (ii) is true

statement (i) is true

the statements are true

er (i) nor (ii) is true

's rule was imposed for the maximum
of times during the tenure of which of
ving Chief Minister of Rajasthan?

in Lal Sukhadia

ev Joshi

on Singh Shekhawat

haran Mathur

agi producing state of India is -

Nadu (B) Karnataka
akhand (D) Maharashtra

s the 'Bhartiya Lok Kala Mandal
located?

(B) Jaipur
(D) Jodhpur

was the Planning Department
ed in Rajasthan?

- (B) 1955
(D) 1953

76. राजस्थान राज्य पर्यावरण नीति किस वर्ष में घोषित
की गई?

- (A) 2013
(C) 2008
(B) 2010
(D) 2018

77. 'जोधपुर का महामन्दिर' उपासना स्थल है -

- (A) रामरनेही संप्रदाय का (B) विरनोई संप्रदाय का
(C) नाथ संप्रदाय का (D) दादू संप्रदाय का

78. एक रुपये के नोट पर किसके हस्ताक्षर होते
हैं?

- (A) प्रधानमंत्री (B) सचिव, वित्त मंत्रालय
(C) वित्त मंत्री (D) गवर्नर, आर. बी. आई.

79. अधोलिखित कथनों को सावधानीपूर्वक पढ़िए -

(i) 19वीं सदी के उत्तरार्द्ध में, मेवाड़ में देश हितेषिणी
सभा की स्थापना की गयी।

(ii) सभा का मुख्य उद्देश्य समाज सुधार था।

सही कूट चुनिए -

(A) केवल कथन (ii) सत्य है

(B) केवल कथन (i) सत्य है

(C) दोनों कथन सत्य हैं

(D) न तो (i) ना ही (ii) सत्य है

80. निम्न में से राजस्थान के किस मुख्यमंत्री के कार्यकाल
में सर्वाधिक बार राष्ट्रपति शासन लगाया गया?

- (A) मोहन लाल सुखाडिया
(B) हरीदेव जोशी
(C) भैरों सिंह शेखावत
(D) शिवचरण माथुर

81. भारत में सर्वाधिक रागी उत्पादक राज्य है -

- (A) तमिलनाडु (B) कर्नाटक
(C) उत्तराखंड (D) महाराष्ट्र

82. 'भारतीय लोक कला मण्डल संस्थान' कहाँ स्थित
है?

- (A) टोंक (B) जयपुर
(C) उदयपुर (D) जोधपुर

83. राजस्थान में नियोजन विभाग की स्थापना कब
हुई?

- (A) 1954 (B) 1955
(C) 1956 (D) 1953

The following (Political Activist - Jharkhand State) is not correctly

1. Utt Paliwal - Dholpur
2. Das Mathur - Marwar
3. Madhav - Bharatpur
4. An Mathur - Karauli

5. In the Folk deity (Lok Devta) with

6. ji (B) Mallinath ji
(D) Fatta ji

7. At Govind Dev Temple, Jaipur and
8. An Temple, Karauli are related?

(B) Nath
(D) Ramsnehi

9. Where should be given credit for
10. The painting style -

11. (B) Shahpura
(D) Uniara

12. Is famous for -

13. Work in painting

14. At Temple

15. The collection of Mughal paintings

16. The collection of 360 windows

17. In which farming is done in India -

18. (A) In an 150 cm annual rainfall areas

19. (B) In 100 cm annual rainfall areas

20. (C) In 75 cm annual rainfall areas

21. (D) In 110 cm annual rainfall areas

22. In which the first cement factory established?

(B) Lakheri

(D) Beawar

23. Among the following is the quantitative
24. Credit control by the Central Bank?

25. (B) Marginal
26. Requirements

27. (D) Bank rate

28. 84. निम्नलिखित में से कौनसा (राजनीतिक कार्यकर्ता -
29. संबंधित देशी राज्य) सुमेलित नहीं है?

(A) कृष्णदत्त पालीवाल - धौलपुर

(B) गथुरा दास माथुर - मारवाड़

(C) गोपीलाल यादव - भरतपुर

(D) हरिमोहन माथुर - करौली

30. 85. चार हाथों वाला लोकदेवता किसे कहा जाता है?

(A) झुंझार जी

(B) मल्लीनाथ जी

(C) ~~फत्ता~~ जी

(D) फत्ता जी

31. 86. गोविंद देव मन्दिर, जयपुर एवं मदन मोहन मन्दिर,
32. करौली का सम्बन्ध किस सम्प्रदाय से है?

(A) गोड़ीय

(B) नाथ

(C) वल्लभ

(D) रामस्नेही

33. 87. श्रीधर अंधारे को किस चित्रशैली को प्रकाश में लाने
34. का श्रेय दिया जाता है?

(A) किशनगढ़

(B) शाहपुरा

(C) ~~उजियारा~~

(D) उजियारा

35. 88. 'महणसर' प्रसिद्ध है -

(A) ~~सोने~~ की चित्रकारी के लिए

(B) सती माता मन्दिर के लिए

(C) मुगलकालीन चित्रों की अधिकता के लिए

(D) 360 खिड़कियों की हवेली के लिए

36. 89. भारत में शुष्क क्षेत्र कृषि की जाती है -

(A) 150 से.मी. से अधिक वर्षा क्षेत्रों में

(B) 100 से.मी. से 150 से.मी. वार्षिक वर्षा क्षेत्रों में

(C) 35 से.मी. से 75 से.मी. वार्षिक वर्षा क्षेत्रों में

(D) 75 से.मी. से 110 से.मी. वार्षिक वर्षा क्षेत्रों में

37. 90. राजस्थान में सीमेंट का प्रथम कारखाना कहाँ स्थापित
38. हुआ था?

(A) डबोक

(B) ~~लाखेरी~~

(C) गोटन

(D) व्यावर

39. 91. केन्द्रीय बैंक द्वारा निम्न में से कौनसी साख नियंत्रण
40. की परिमाणात्मक विधि है?

(A) ऋण राशनिंग

(B) सीमांत आवश्यकताएँ

(C) प्रत्यक्ष कार्यवाही

(D) बैंक दर

item is currently being adopted in the
Economic Planning in Rajasthan?
Central Economic System
Multi Level Economic System
Decentralized Economic System

Winner of women's singles in French
Open 2022?

(A) Iga Swiatek (B) C. Gauff

(C) Elena Rybakina (D) Caroline Garcia

Match the following -

Match the following -

Match	Caste
1. Nai	(i) Nai/Nayee
2. Seervi	(ii) Seervi
3. Khandelwal	(iii) Khandelwal
4. Charan	(iv) Charan

(A) 1-i, 2-ii, 3-iii, 4-iv (B) 1-iv, 2-iii, 3-ii, 4-i

(C) 1-iii, 2-i, 3-iv, 4-ii (D) 1-ii, 2-i, 3-iv, 4-iii

Match the following -

1. Print	(I) Kaithun
2. Loom fabric printing	(II) Jodhpur
3. Balotara	(III) Balotara
4. Barmer	(IV) Barmer

Match the correct option -

(A) (1) - (II), (2) - (III), (3) - (IV), (4) - (I)

(B) (1) - (III), (2) - (IV), (3) - (I), (4) - (II)

(C) (1) - (II), (2) - (III), (3) - (IV), (4) - (I)

(D) (1) - (IV), (2) - (III), (3) - (II), (4) - (I)

How many days an appeal can be made to
the second appellate authority against the
order of the first appellate authority under
the Rajasthan Public Service Guarantee Act,

(A) 15 Days (B) 45 Days

(C) 30 Days (D) 15 Days

Write the book 'Planned Economy for
India'

(A) Pt. Jawahar Lal Nehru (B) Pt. Jawahar Lal Nehru

(C) Man Mohan Singh (D) Man Mohan Singh

92. वर्तमान में राजस्थान में आर्थिक नियोजन के क्षेत्र में
किस प्रणाली को अपनाया जा रहा है?

(A) राष्ट्रीय आर्थिक प्रणाली

(B) केन्द्रीयकृत आर्थिक प्रणाली

(C) जिला स्तरीय आर्थिक प्रणाली

(D) सार्वजनिक आर्थिक प्रणाली

93. फ्रेंच ओपन-2022 में महिला एकल की विजेता कौन
हैं?

(A) क्रिस्टीना म्लादेनोविक (B) सी. गौफ

(C) इगा स्विआतेक

(D) कैरोलिन गार्सिया

94. सुमेलित कीजिए -

कुलदेवी	जाति
(1) करणी माता	(i) नाई
(2) सकराय माता	(ii) सीरवी
(3) आई माता	(iii) खण्डेलवाल
(4) नारायणी माता	(iv) चारण

(A) 1-iv, 2-i, 3-ii, 4-iii (B) 1-iv, 2-iii, 3-ii, 4-i

(C) 1-iv, 2-iii, 3-i, 4-ii (D) 1-ii, 2-i, 3-iv, 4-iii

95. सुमेलित कीजिये -

(1) अजरख प्रिंट	(I) कैथून
(2) पावरलूम कपड़ों पर छपाई	(II) जोधपुर
(3) मोठड़ा	(III) बालोतरा
(4) मसूरिया	(IV) बाड़मेर

सही विकल्प चुनें -

(A) (1) - (II), (2) - (III), (3) - (IV), (4) - (I)

(B) (1) - (III), (2) - (IV), (3) - (I), (4) - (II)

(C) (1) - (I), (2) - (II), (3) - (III), (4) - (IV)

(D) (1) - (IV), (2) - (III), (3) - (II), (4) - (I)

96. राजस्थान लोकसेवा गारंटी अधिनियम, 2011 के
अंतर्गत प्रथम अपीलीय प्राधिकारी के निर्णय के विरुद्ध
कितने दिनों में द्वितीय अपीलीय प्राधिकारी को अपील
की जा सकती है?

(A) 60 दिन

(B) 45 दिन

(C) 30 दिन

(D) 15 दिन

97. 'प्लान्ड इकोनॉमी फॉर इंडिया' पुस्तक किसे
लिखी?

(A) महात्मा गांधी

(B) पं. जवाहर लाल नेहरू

(C) एम. विश्वेश्वरैया

(D) मनमोहन सिंह

ate of India has the highest percentage area in the total area?

(A) Jharkhand (B) Nagaland
(C) Chhatisgarh Pradesh (D) Mizoram

he 'Badhar'?

ding banquet

e of Rajasthan

oe of Rajasthan

ct of funeral

uler of Mewar patronized the painter ?

(A) Bhanu Dhar (B) Maharana Jagat
Singh I

(C) Maharana Kumbha (D) Maharana Raj
Singh

of the following is correct formula in
C++?

(A) POWER (2*3) (B) = POWER (2^3)

(C) POWER (2,3) (D) = POWER (2#3)

one of the following groups contains
valid file extensions?

(A) .CPX, GCM

(B) .JPG, BMP

(C) .GIF, BMP

(D) .TCE, WMF

Next of MS-Word – 2019, the key stroke
to find the location of the last change -

(A) Ctrl + Shift + F8 (B) Alt + F6

(C) Ctrl + F5 (D) Ctrl + F7

NTFS stands for and it was
developed by

(A) Network Technology File System; Intel

(B) Network Technology File System; Apple

(C) Network Technology File System; Apple

(D) Network Technology File System; Microsoft

98. भारत के किस राज्य में कुल क्षेत्रफल में वनों का
क्षेत्रफल प्रतिशत सर्वाधिक है?
(A) त्रिपुरा (B) नागालैण्ड
(C) अरुणाचल प्रदेश (D) मिजोरम

99. 'बदर' क्या है?

(A) शादी पर आयोज्य भोज
(B) राजस्थान की एक झील
(C) राजस्थान की एक जनजाति
(D) अंत्येष्टि की एक क्रिया

100. साहिबदीन नामक चित्रकार को मेवाड़ के किस शासक
का संरक्षण प्राप्त था?

(A) महाराणा अमरसिंह (B) महाराणा जगतसिंह I
(C) महाराणा कुम्भा (D) महाराणा राजसिंह

101. एम.एस.-एक्सल में निम्न में से कौनसा सही फॉर्मूला
है?

(A) = POWER (2*3) (B) = POWER (2^3)
(C) = POWER (2,3) (D) = POWER (2#3)

102. निम्नलिखित में से किस समूह में ग्राफिकल फाइल
एक्सटेंशन है?

(A) जे.पी.जी., सी.पी.एक्स., जी.सी.एम.
(B) टी.सी.पी., जे.पी.जी., बी.एम.पी.
(C) जे.पी.जी., जी.आई.एफ., बी.एम.पी.
(D) जी.आई.एफ., टी.सी.ई., डब्ल्यू.एम.एफ.

103. एम.एस.-वर्ड - 2019 के संदर्भ में, अंतिम परिवर्तन का
स्थान पर जाने के लिए, की स्ट्रोक है -

(A) कंट्रोल + शिफ्ट + F8 (B) ऑल्ट + F6
(C) शिफ्ट + F5 (D) कंट्रोल + F7

104. NTFS का मतलब है और इसे
द्वारा विकसित किया गया था।

(A) नेटवर्क टेक्नोलॉजी फाइल सिस्टम; इनटेल
(B) न्यू टेक्नोलॉजी फाइल सिस्टम; एप्पल
(C) नेटवर्क टेक्नोलॉजी फाइल सिस्टम; एप्पल
(D) न्यू टेक्नोलॉजी फाइल सिस्टम; माइक्रोसॉफ्ट

column - I and column - II -

column - I

codes

1R

2R

Code

R

column - II

projective type tests

online payments

departmental store labels

equities in banks

translating printed page to editable text

(a)-(3), (b)-(1), (c)-(2), (d)-(5), (e)-(4)

(a)-(4), (b)-(1), (c)-(5), (d)-(3), (e)-(2)

(a)-(2), (b)-(4), (c)-(5), (d)-(1), (e)-(3)

(a)-(3), (b)-(1), (c)-(4), (d)-(2), (e)-(5)

Choose the correct statement related to

iversity -

High Himalayan regions have the highest

odiversity in the world

odiversity is found equally on earth

odiversity increases towards higher

titudes

odiversity increases towards the Equator

Choose the right statement / statements about

-

ISRO built India's first satellite, Aryabhat,

which was launched by USA in 1975.

Matrix Corporation is the marketing arm of

ISRO.

Master Control Facility of ISRO is situated in

Assam.

1, 2

(B) 2, 3

1, 2, 3

(D) 1, 3

Consider the following statements about Li-Fi-

Li-Fi uses normal bulbs to transfer data.

Li-Fi technology uses visible spectrum of

light.

The speed of Li-Fi is slower than Wi-Fi.

Li-Fi is expected to be cheaper than Wi-Fi.

Choose the correct statement -

(i) and (iii)

(B) (ii) and (iv)

(ii) and (iv)

(D) (i) and (ii)

105. स्तम्भ - I तथा स्तम्भ - II का मिलान करें -

स्तम्भ - I

(a) बार कोड्स

(b) ओ.एम.आर.

(c) एम.आई.सी.आर.

(d) क्यू.आर. कोड

(e) ओ.सी.आर.

स्तम्भ - II

(1) वस्तुनिष्ठ प्रकार की परीक्षाएँ

(2) ऑनलाइन पेमेंट्स

(3) डिपार्टमेंटल स्टोर के लेबल

(4) बैंक के चेक

(5) छपे हुए पेज का एडिटेबल टेक्स्ट में रूपान्तरण

(A) (a)-(3), (b)-(1), (c)-(2), (d)-(5), (e)-(4)

(B) (a)-(4), (b)-(1), (c)-(5), (d)-(3), (e)-(2)

(C) (a)-(2), (b)-(4), (c)-(5), (d)-(1), (e)-(3)

(D) (a)-(3), (b)-(1), (c)-(4), (d)-(2), (e)-(5)

106. जैव विविधता से सम्बन्धित सही कथन का चयन करें -

(A) उच्च हिमालयी क्षेत्रों में विश्व की सर्वाधिक जैव विविधता है

(B) पृथ्वी पर जैव विविधता एक समान पाई जाती है

(C) जैव विविधता उच्चतर अक्षांशों की तरफ बढ़ती है

(D) जैव विविधता भूमध्य रेखा की ओर बढ़ती है

107. इसरो (ISRO) के बारे में सही कथन / कथनों का चयन कीजिए -

(1) इसरो द्वारा पहले भारतीय उपग्रह का निर्माण किया गया और इसे 1975 में यू.एस.ए. (USA) द्वारा प्रक्षेपित किया गया।

(2) एन्ट्रिक्स कॉरपोरेशन इसरो की विपणन शाखा है।

(3) इसरो की मास्टर कंट्रोल फेशिलिटी, हासन में स्थित है।

(A) 1, 2

(B) 2, 3

(C) 1, 2, 3

(D) 1, 3

108. लाई - फाई के बारे में निम्नलिखित कथनों पर विचार करें -

(i) डेटा ट्रांसफर करने के लिए यह सामान्य बल्ब का उपयोग करता है।

(ii) यह तकनीक प्रकाश के दृश्यमान स्पेक्ट्रम का उपयोग करती है।

(iii) लाई-फाई की गति वाई-फाई की तुलना में धीमी है।

(iv) लाई-फाई, वाई-फाई से सरती तकनीकी होगी।

सही वाक्य का चयन कीजिए -

(A) (ii) और (iii)

(B) (ii) और (iv)

(C) (iii) और (iv)

(D) (i) और (ii)

EC' stand for?

- (A) Thermal Energy Conversion
- (B) Thermal Energy Conservation
- (C) Tide Electric Conservation
- (D) Thermal Evolution Convention

It falls freely towards the earth, its kinetic energy -

increases then (B) increases

remains constant (D) decrease

is following -

is



Which of the following is/are responsible for the depletion of atmospheric ozone?

- (B) 1, 2 and 3
- (D) 3 only

Which of the following is called as -

- (B) Vibrio
- (D) Cocci

Which of the following is at its largest in children, at the onset of puberty, it eventually gets replaced by fat.

- (B) Pituitary gland
- (D) Parathyroid gland

The total resistance of a parallel circuit consisting of three resistors is 12 Ohm. If the resistance of one resistor is 8 Ohm, what is the resistance of the other two resistors?

- (B) 18 Ohm
- (D) 64 Ohm

109. 'OTEC' का अर्थ है -

- (A) ओशन थर्मल एनर्जी कन्वर्शन
- (B) ऑइल एण्ड थर्मल एनर्जी कन्जर्वेशन
- (C) ओशन एण्ड टाइड इलेक्ट्रिक कन्जर्वेशन
- (D) ऑइल एण्ड थर्मल एवोल्यूशन कन्वेंशन

110. यदि कोई वस्तु स्वतंत्र रूप से पृथ्वी पर गिरती है, तो उसकी कुल ऊर्जा -

- (A) पहले बढ़ती है, फिर (B) बढ़ती है घटती है
- (C) स्थिर रहती है (D) घटती है

111. निम्न पर विचार करें -

1. मीथेन
2. नाइट्रस ऑक्साइड
3. हेलेनस

निम्न में से कौन समतापमंडलीय ओजोन के ह्रास के लिए उत्तरदायी है/हैं?

- (A) केवल 1 (B) 1, 2 और 3
- (C) केवल 1 और 2 (D) केवल 3

112. अल्पविराम के आकार के जीवाणु कहलाते हैं -

- (A) बेसिलाई (B) विब्रियो
- (C) स्पाइरिलम (D) कोकाई

113. बच्चों में सबसे बड़ा होता है, लेकिन यौवन की शुरुआत के साथ, यह अंततः सिकुड़ जाता है और वसा द्वारा प्रतिस्थापित हो जाता है।

- (A) हाइपोथैलेमस (B) पिट्यूटरी ग्रंथि
- (C) थाइमस (D) पैराथाइरॉइड ग्रंथि

114. दो शाखाओं वाले समानांतर परिपथ का प्रतिरोध 12 ओम है। यदि एक शाखा का प्रतिरोध 18 ओम है, तो दूसरी शाखा का प्रतिरोध क्या है?

- (A) 48 ओम (B) 18 ओम
- (C) 36 ओम (D) 64 ओम

Chemical substances given in column (I) with their appropriate application in (II).

ng powder
soda
g soda
chloride
nn (II)
ration of glass
action of H₂ and Cl₂
ourisation
cid

- (i), b - (ii), c - (iv), d - (i)
(i), b - (iv), c - (i), d - (ii)
(i), b - (i), c - (iv), d - (iii)
(i), b - (ii), c - (iii), d - (iv)

wrong number in the given series from 4 alternatives -
4, 155, 260

- (B) 84
(D) 260

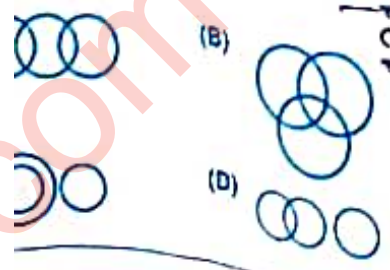
LE is coded as DMOQHSS in a code. e, how is VICTORY coded in that e?

- JNSX (B) XSNUBJU
DSPOZ (D) ZXPSDHW

ome is 3/5 times of B's income and C's is 6/5 times of B's income then the ratio come to A's income is -

- (B) 1:1
(D) 3:1

one of the following diagrams nts the relation between Tree, eak, nder?



115. कॉलम (I) में दिए गए रासायनिक पदार्थों का कॉलम (II) में दिए गए उपयुक्त अनुप्रयोग से मिलान करें।

- कॉलम (I)
(a) ब्लिचिंग पाउडर,
(b) बेकिंग सोडा
(c) वॉशिंग सोडा
(d) सोडियम क्लोराइड



- कॉलम (II)
(i) कांच बनाने में
(ii) H₂ और Cl₂ के उत्पादन में
(iii) विरंजनीकरण में
(iv) एंटासिड

- (A) a - (iii), b - (ii), c - (iv), d - (i)
(B) a - (iii), b - (iv), c - (i), d - (ii)
(C) a - (ii), b - (i), c - (iv), d - (iii)
(D) a - (i), b - (ii), c - (iii), d - (iv)

116. दिए गए विकल्पों में से दी गई श्रृंखला में गलत संख्या ज्ञात कीजिए -

- 14, 39, 84, 155, 260
(A) 39 (B) 84
(C) 155 (D) 260

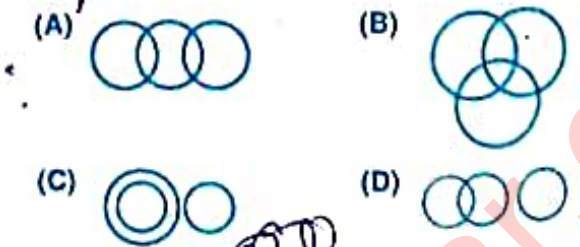
117. किसी सांकेतिक भाषा में यदि TRIPPLE का अर्थ DMOQHSS है, तो उसी भाषा में VICTORY का अर्थ क्या होगा?

- (A) UJBUNSX (B) XSNUBJU
(C) WHDSPQZ (D) ZXPSDHW

118. यदि A की आय, B की आय से 3/5 गुना है तथा B की आय, C की आय से 6/5 गुना है, तो C की आय का A की आय से अनुपात है -

- (A) 1:2 (B) 1:1
(C) 2:1 (D) 3:1

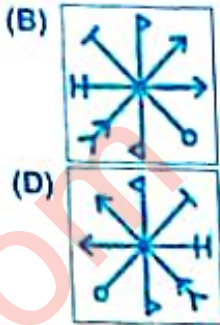
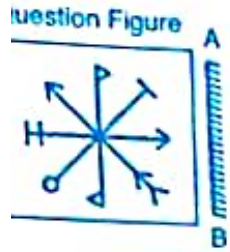
119. निम्नलिखित में से कौन-सा आरेख पेड़, सागौन और सैलामेंडर के बीच संबंध का प्रतिनिधित्व करता है?



1311004854

84
304
3x1
3x3
2x4
3x2

mirror image of given question
is placed on the line AB -



gives rebate of 20% and 10%
print price of a chair. If cost of
0, then how much amount will

- (B) 1,600
(D) 1,500

angles are there in the following



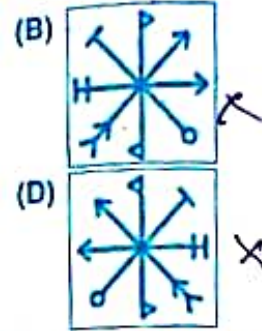
- (B) 14
(D) 15

r. C is B's mother. D is C's father. E
r. How is A related to D?
r (B) Grandfather
other (D) Granddaughter

ates fought an election. One of
5% of the total votes casted and won
s. What is the total number of votes
o vote is declared invalid?

- (B) 1500
(D) 1400

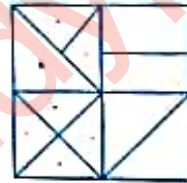
120. दी गई प्रश्न आकृति का सही दर्पण प्रतिबिम्ब चुनें
जब दर्पण को रेखा AB पर रखा जाए -



121. एक व्यापारी कुर्सी के अंकित मूल्य पर क्रमशः 20%
एवं 10% की छूट देता है। यदि कुर्सी का मूल्य
2,000₹ है, तो ग्राहक को कितना मूल्य चुकाना
पड़ेगा?

- (A) 1,400
(B) 1,600
(C) 1,440
(D) 1,500

122. निम्न चित्र में कितने त्रिभुज हैं?



- (B) 14
(D) 15

123. B की बहन है। C, B की माता है। D, C का पिता
E, D की माता है। A किस प्रकार D से संबंधित

- (A) पुत्री
(B) दादा
(C) दादी
(D) पोत्री

124. उम्मीदवारों ने एक चुनाव लड़ा। उनमें से एक ने
कुल डाले गये मतों के 65% मत प्राप्त किये और 420
मतों से विजयी हो गया। यदि कोई मत अमान्य घोषित
नहीं किया गया, तो डाले गए कुल मतों की संख्या
क्या है?

- (A) 1200
(B) 1500
(C) 1300
(D) 1400

Quality has a price tag. India is allocating lots of funds to education.

- I. Quality of education in India would improve soon.
- II. Funding alone can enhance quality of education.

Conclusion I follows

Conclusion II follows

Conclusion I follows

Conclusion II follows

Match the letters to replace the '?' from the options -

DFHJ : ?

- (B) VRQS
(D) WUSQ

The average age of a class of 40 students and a teacher is 16 years. The average age of the students is 15.5 years, if we exclude the teacher, the initial average age is 18 years, what is the age of the teacher?

- (B) 39 years
(D) 38 years

The difference between the simple interest and compound interest on a certain amount at 5% per annum for 2 years is ₹ 25, what is the amount?

- (B) ₹ 10,000
(D) ₹ 8000

Manish was standing 10th from the left end and 11th from the right end when Manish was shifted by 5 places towards the right, now he becomes 16th from the left end. What was his earlier position from the right end of the row?

- (B) 10th
(D) 14th

A person starts walking from point R, which is 16 m to the West of point T. From point R, he walks 10 m South, takes a right turn and walks 10 m East, then takes a right turn, walks for 10 m North and stops at point C. Gaurav starts walking from point A, which is 8 m to the south of point T. From point A, he walks 10 m to the East, takes a right turn and walks for 6 m. He then takes a right turn and walks for 26 m and stops at point B. What is the distance between point C and point B?

- (B) 12 m
(D) 25 m

125. कथन - गुणवत्ता का एक मूल्य टैग होता है। भारत शिक्षा के लिए बहुत सारा धन आवंटित कर रहा है।

निष्कर्ष : I. भारत में शिक्षा की गुणवत्ता में जल्द सुधार होगा।
II. अकेले वित्त पोषण शिक्षा की गुणवत्ता बढ़ा सकता है।

- (A) केवल निष्कर्ष I अनुसरण करता है
(B) केवल निष्कर्ष II अनुसरण करता है
(C) I और II दोनों अनुसरण करते हैं
(D) केवल निष्कर्ष II अनुसरण करता है

126. दिए गए विकल्पों में से '?' के स्थान पर संबंधित अक्षरों को चुनिए -

HJLN : SQOM :: DFHJ : ?

- (A) XQSQ
(B) VRQS
(C) XRQS
(D) WUSQ

127. यदि हम शिक्षक को छोड़ दें, तो 40 छात्रों और एक शिक्षक की कक्षा की औसत आयु 0.5 वर्ष कम हो जाती है। यदि प्रारंभिक औसत आयु 18 वर्ष है, तो शिक्षक की आयु क्या है?

- (A) 41 वर्ष
(B) 39 वर्ष
(C) 40 वर्ष
(D) 38 वर्ष

128. एक निश्चित राशि पर 5% की दर से दो वर्षों के लिए साधारण ब्याज और चक्रवृद्धि ब्याज के बीच का अंतर 25 ₹ है, राशि क्या है?

- (A) 9000 ₹
(B) 10,000 ₹
(C) 15,000 ₹
(D) 8000 ₹

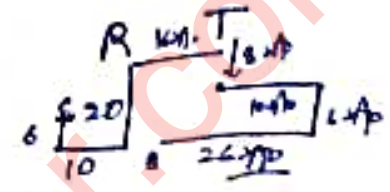
129. 21 पुरुषों की एक पंक्ति में मनीष को दायीं ओर का स्थान सरकाया गया। अब वह बायीं छोर से 12^{वां} स्थान पर है। पंक्ति में दायें छोर से उसका पूर्व स्थान क्या था?

- (A) 8^{वां}
(B) 10^{वां}
(C) 12^{वां}
(D) 14^{वां}

130. राहुल बिंदु R से चलना शुरू करता है, जो बिंदु T के पश्चिम में 16 मी. है। बिंदु R से, वह 20 मी. दक्षिण की ओर चलता है, दायें मुड़ता है और 10 मी. चलता है। फिर वह दायें मुड़ता है, 6 मी. चलता है और बिंदु C पर रुक जाता है। गौरव बिंदु A से चलना शुरू करता है, जो बिंदु T के 8 मी. दक्षिण में है। बिंदु A से, वह 10 मी. पूर्व की ओर चलता है, दायें मुड़ता है और 6 मी. चलता है। फिर वह दायें मुड़ता है और 26 मी. चलता है और बिंदु B पर रुक जाता है। बिंदु C और बिंदु B के बीच की दूरी कितनी है?

- (A) 10 मी.
(B) 12 मी.
(C) 15 मी.
(D) 25 मी.

131. अयादि स्वर सधि की दृष्टि से असुमेलित विकल्प का चयन कीजिए -
 (A) विधे + अक = विद्यायक (B) गो + एण्णा = गवेषणा
 (C) लो + इत्र = लवित्र (D) विने + अक = विनायक
132. निम्न में से शुद्ध वाक्य का चयन कीजिए -
 (A) उसो परमसत्ता पर विश्वास है। (B) सज्जन में अनेक दर्शनीय स्थल देखने योग्य है।
 (C) भाषा मे धीरे-धीरे शब्द लोप हो जाते हैं। (D) उसने मेरे शब्दों पर ध्यान नहीं दिया।
133. किस विकल्प में 'Allocation' शब्द का हिन्दी पारिभाषिक शब्द सही है?
 (A) संबन्धन (B) नियतन
 (C) समायोजन (D) निष्ठा
134. विलोम शब्द की दृष्टि से संगत विकल्प का चयन कीजिए -
 (A) अधित्यका-उपत्यका, आगम-अनागत, अध-अन्य (B) आज्ञा-अवज्ञा, अधुना-नूतन, अस्ति-नास्ति
 (C) अधम-उत्तम, अज्ञ-विज्ञ, अग्र-पश्च (D) ग्राम-ग्राम्य, उदात्त-अनुदात्त, ऐश्वर्य-अनीश्वर्य
135. किस विकल्प में तत्पुरुष समास का प्रयोग नहीं हुआ है?
 (A) अंधविश्वास (B) शपथपत्र
 (C) ख्यातिप्राप्त (D) सेवानिवृत्त
136. निम्न में से कौनसा शब्द संज्ञा से निर्मित विशेषण नहीं है?
 (A) मानवीय (B) निदित
 (C) चित्तन (D) दानवीय
137. व्यंजन वर्णों के संबंध में कौन - सा विकल्प सुमेलित नहीं है?
 (A) च, छ - स्पर्श संघर्षी (B) य, व - अर्धस्वर
 (C) ग, घ - स्पर्श व्यंजन (D) श, ष - संघर्षहीन
138. 'नाटक के अंत में प्रयुक्त मांगलिक पद', के लिए सार्थक शब्द है -
 (A) मंगलवाक्य (B) विदूषक
 (C) व्याजवाक्य (D) भरतवाक्य
139. निम्न में से किस विकल्प के सभी शब्दों में उपसर्ग व प्रत्यय दोनों का प्रयोग हुआ है?
 (A) फंनिल, शामिल, जटिल (B) अवगत, अवलंब, अवसित
 (C) विचारणीय, पारिवारिक, औत्पत्तिक (D) अयधि, अवज्ञा, अक्यूत
140. असंगत विकल्प का चयन कीजिए -
 (A) पुलिस ने चोर पकड़वाया। - प्रेरणार्थक क्रिया
 (B) उसने सब खायो। - सकर्मक क्रिया
 (C) लड़के मैदान में दौड़ रहे हैं। - अकर्मक क्रिया
 (D) माता जी प्रतिदिन बाग में जाते हैं। - रंजक क्रिया



Direction (141 to 143): Read the given passage and answer the questions that follow –
 Despite the frustrating years of dragging children out of bed and persuading them to go to school, young children have an internal drive to learn about their world, and become industrious and productive individuals. Their educational eagerness and curiosity can either be stifled or encouraged by parents, teachers and other adults. Aware parents can encourage their children's development of important life skills. Besides teaching them to read and write, school and home environments teach children cooperation and interdependence. Children also engage in important play rituals (like playing with dolls or cops and robbers) which prepare them for adolescence and adulthood. Supportive parents can promote crucial learning of life skills. Above all, school-age children struggle with feeling of inferiority and incompetence when they compare themselves with their peers. If they don't fit in, they might feel insignificant. Loving and accepting parents help these children develop the confidence to create a future where they can thrive and feel good about themselves.

141. Some games prepare the children for:

- | | |
|-----------------|-------------------------------|
| (A) academics | (B) competition |
| (C) good health | (D) adolescence and adulthood |

142. The antonym of the word 'curiosity' given in the passage is -

- | | |
|---------------------|------------|
| (A) intrusiveness | (B) apathy |
| (C) inquisitiveness | (D) prying |

143. The synonym of the word 'stifled' given in the passage is -

- | | |
|---------------|----------------|
| (A) inspired | (B) enhanced |
| (C) amplified | (D) suppressed |

144. Choose the correct option:

They made me laugh. (Change into passive voice)

- | | |
|-----------------------------------|------------------------------------|
| (A) I were made to laugh by them. | (B) I was made to laugh. |
| (C) They made too laugh by me. | (D) They were made to laugh by me. |

145. Choose the correct Hindi translation of the given sentence -

Mom, could you put my books inside the bag?

- | |
|---|
| (A) <input checked="" type="checkbox"/> माँ, क्या मेरे बैग में मेरी किताबें आपने रख दी हैं? |
| (B) <input type="checkbox"/> माँ, क्या आपने मेरी किताबें बैग में रख दी हैं? |
| (C) <input type="checkbox"/> माँ, क्या मेरी किताबें आप मेरे बैग में रख सकती हैं? |
| (D) <input type="checkbox"/> माँ, क्या आप मेरी किताबें बैग में रख सकती हैं? |

146. Which of the following is/are the correct statement/s regarding letter writing?

- (I) 'Your's Faithfully' is used for ending a formal letter.
- (II) The right sequence of writing a letter to the editor is - Sender's address, Receiver's address, Subject, Salutation, Body of letter, Subscription, Date.
- (III) The right format of writing a date in all formal letters is '30th May, 2022' instead of '30/05/2022'.
- (IV) 'Yours Truly' is used for ending an informal letter.

Code-

- (A) Only I, III and IV are correct
- (B) Only III is correct
- (C) Only II, III and IV are correct
- (D) Only III and IV are correct

147. Fill in the blank spaces in the given sentence choosing correct answer from the given options -

"..... tiger is fierce wild animal".

- (A) the, a
- (B) the, the
- (C) a, the
- (D) a, a

148. Give one word substitute for

A large number of fish swimming together.

- (A) swarm
- (B) troupe
- (C) litter
- (D) shoal

149. Choose the correct answer from the given options -

The teacher said to the students, "Take back your books". (Change into indirect speech)

- (A) The teacher told the students to take back books.
- (B) The teacher asked the students to take back your books.
- (C) The teacher ordered the students to take back your books.
- (D) The teacher asked the students to take back their books.

150. Choose the meaning of the underlined phrase/Idiom -

I am going to stay at home because I am feeling under the weather today.

- (A) irritated
- (B) depressed
- (C) sick
- (D) unhappy